

۱- آلهارا اداه دهید:

۲۵ و ۳۱ و ۳۷ و — و — و — و —

۲۴۰۰ و ۲۸۰۰ و ۳۰۰۰ و — و — و — و —

۲۵۰۰ و ۳۵۰۰ و ۴۵۰۰ و — و — و — و —

$\frac{2}{2}$  و  $\frac{4}{4}$  و — و —

( شکر هم بکشید )

جازه - بیست و یک و — و — و — و —

۲- فاطمه در آپارتمان زندگی می کرد که چهار طبقه دارد، در هر طبقه ۲ واحد وجود دارد. اگر هر واحد ۳ اتاق داشته باشد

واحد				
اتاق				

الف) این آپارتمان چند اتاق دارد؟  
ب) این آپارتمان روی هم چند واحد دارد؟

۳- چه کسری از شکل مقابل رنگی است؟



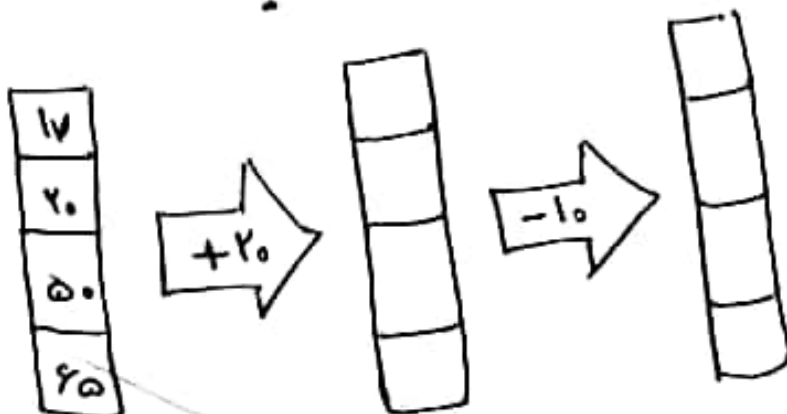
الف)  $\frac{3}{6}$

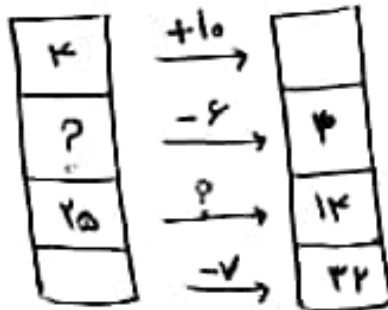
ب)  $\frac{2}{3}$

ج)  $\frac{1}{3}$

د)  $\frac{2}{6}$

۴- درماشین های معدنی و فیزیکی زیر، جابجایی تقالی را با عدد مناسب کامل کنید:





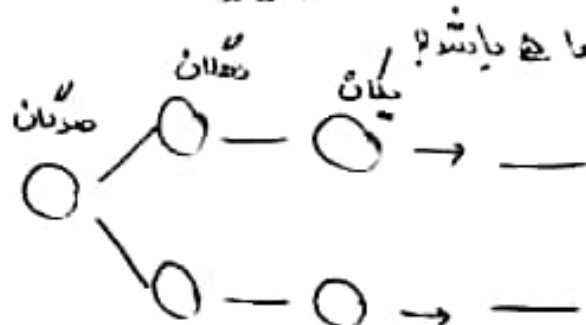
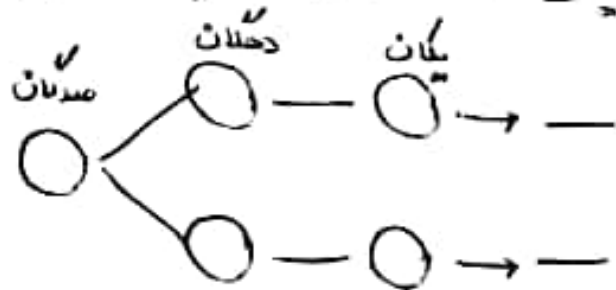
۵- جدول زیر را کامل کنید:

زمان	۱۳		۲۳:۱۵'		۷:۳۰'
بیدار ظهر		۴:۳۰'		۹:۱۵	

۶- زاویای راست شکل های زیر را مشخص کنید:



۷- عددهای سه رقمی را بنویسید که رقم صدگان آن ها ۳ یا ۵ ، رقم دهگان آن ها ۲ یا ۴ و رقم یکان آن ها ۵ باشد:



۸- جاهای خالی را کامل کنید:

۳ کیلومتر و ۴۷ متر \_\_\_\_\_ متر است.

۹۷۲ سانتی متر \_\_\_\_\_ متر و \_\_\_\_\_ سانتی متر است.

۳۰ گرم \_\_\_\_\_ کیلوگرم و \_\_\_\_\_ گرم است.

چهار کیلوگرم \_\_\_\_\_ گرم است.

معامل ضرب هر عددی در یک برابر است با \_\_\_\_\_

در الگوی شمارش ۷ تا ۷ تا ۷ تا ۴۹ \_\_\_\_\_ عدد است (کمترین عدد است)

۹- کلاه ها و عیارت های مناسب را به هم وصل کنید.

خط کش

گرتیا

پرگار

بهترین وسیله برای کشیدن کره است

بهترین وسیله برای کشیدن دایره

بهترین وسیله برای کشیدن خط راست

○○○○○  
○○○○○  
○○○○○  
○○○○○

۱۰- کدام ضرب مربوط به شکل روبرو است؟

$4 \times 5$

$4 \times 2$

$1 \times 7$

$6 \times 5$



۱۱- برای شکل های زیر یکی تعریف بنویسید

۱۲- عددهای زیر را روی محور نشان دهید؟



$\frac{3}{4}$  واحد بزرگتر عدد  $\frac{3}{4}$



$\frac{2}{5}$  واحد قبل از عدد  $\frac{2}{5}$

۱۳- یک دایره بکشید که قطر آن ۴ سانتی متر باشد  $\frac{3}{8}$  آن را رنگ کنید و بنویسید چه کسری از دایره رنگ شده است؟

۱۴- با رسم شکل برای کسرهای مساوی بنویسید (شکل بکشید)

$\frac{2}{3} = \frac{\quad}{\quad} = \frac{\quad}{\quad}$

ها- عددهای زیر را به صورت گسترده (باز شده) بنویسید

$37.2 =$

$2010 =$

$9547 =$

$7890 =$

$2235 =$

$1290 =$

$2020 =$

$486 =$