

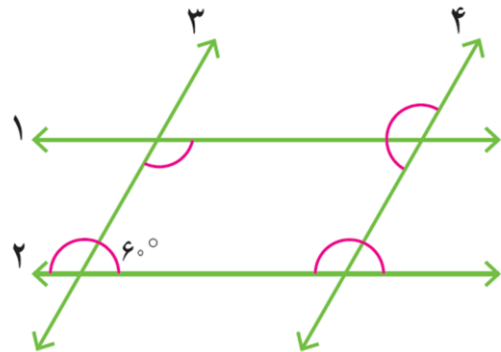
۱. درست و نادرست بودن جمله های زیر را مشخص کنید.

- الف - هرگاه دوخط باهم زاویه ی راست بسازند می گوئیم آن دوخط برهم عمودند .  درست  نادرست
- ب - درذوزنقه ضلع های روبرو باهم موازی هستند .  درست  نادرست
- ج - درمتوازی الاضلاع ضلع های روبرو باهم مساوی هستند .  درست  نادرست
- د - به ضلعی که ارتفاع برآن عمودشده است ، قاعده می گویند .  درست  نادرست

۲. بااستفاده از گونیا از نقطه ی ( ب ) بر خط ( ن ) عمود رسم کنید.



۳. خط های ۱ و ۲ باهم و خط های ۳ و ۴ باهم موازی اند. اندازه ی زاویه هایی که مشخص شده اندرا پیدا کنید.



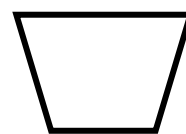
۴. نام شکل های زیر را بنویسید و همه ی ارتفاع آن ها را رسم کنید.



.....

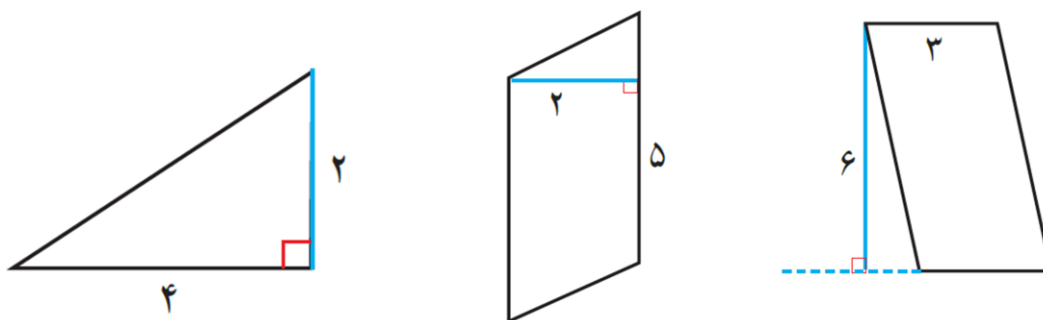


.....

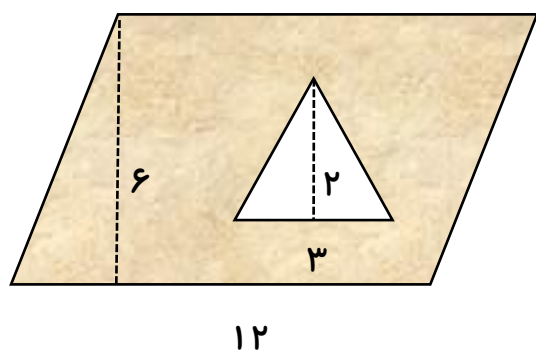


.....

۵. مساحت شکل های زیر را حساب کنید.



۶. مساحت قسمت رنگی را پیدا کنید.



با آرزوی بهترین ها

نتیجه ی نهایی : .....