




۲- عدد ۱۰۰۰ چند رقم دارد؟ **4 رقم**

۳- شکل روبه‌رو چه عددی را نشان می‌دهد؟

یک بسته 100 تایی



۱۰- تا از این شکل را به صورت زیر کنار هم قرار می‌دهیم. حالا این شکل چه عددی را نشان می‌دهد؟



10 تا بسته ی 100 تایی

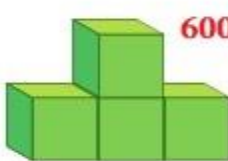
می شود

یک بسته ی

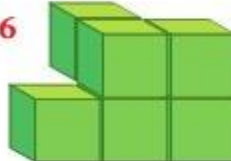
1000

۴- اگر هر مکعب نشان‌دهنده ی ۱۰۰۰ باشد، هر یک از شکل‌های زیر چه عددی را نشان می‌دهد؟

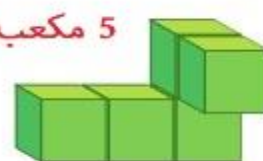
4 مکعب
پس می شود
4000



6 مکعب = 6000



5 مکعب = 5000



۱۰۰۰ و ۲۰۰۰ و ۳۰۰۰ و 4000 و 5000 و 6000 و 7000 و 8000 و 9000

۵- الگو را ادامه دهید.

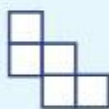
۱۰۰۰ و ۳۰۰۰ و ۵۰۰۰ و 7000 و 9000

۲۰۰۰ و ۴۰۰۰ و ۶۰۰۰ و 8000

برای ساخت مکعب نیاز به 6 مربع داریم

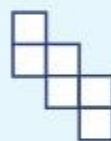
دلیل بیاور

با 5 مربع نمی توان مکعب درست کرد

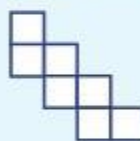


6 مربع دارد

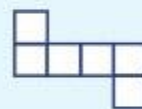
ولی با تا کردن مکعب ساخته نمی شود



7 مربع دارد مکعب نمی شود



6 مربع دارد با تا کردن مکعب ساخته می شود



5 مربع دارد نمی شود



7 مربع دارد نمی شود

