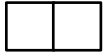
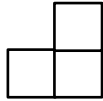




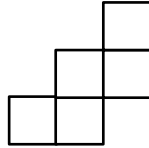
۱- طبق الگو شکل را ادامه دهید.



(۱)



(۲)



(۳)

(۴)

(۵)

۲- دبستان آزادی ۵ طبقه دارد. اگر هر طبقه ۶ کلاس داشته باشد.

الف) دو طبقه چند کلاس دارد؟

ب) چهار طبقه چند کلاس دارد؟

پ) بین تعداد کلاس ها و تعداد طبقات چه رابطه ای وجود دارد؟

۳- برای عدد زیر جدول ارزش مکانی بکشید و بگویید کوچکترین رقم در چه مرتبه ای قرار دارد؟

۳۷۲۴۳۵۶

۴- اعداد زیر را با رقم و با حروف بنویسید.

۴۲۵۲۶۱۷۲

هشتصد میلیون و هشت

۷۲۶۰۰۰۱۰۰

ششصد و ششصد و شش میلیون و بیست و هشت

۵- ابتدا نام هر طبقه را بنویسید و سپس به سؤالات جواب دهید.

۷۰۰۶۰۲۷۲۶

الف) عدد را با حروف بنویسید.

ب) ارزش مکانی کدام رقم بیشتر است.

پ) بزرگترین رقم در چه جایگاهی قرار دارد؟

ت) این عدد چند رقمی است؟

۶- در جای خالی عدد مناسب بنویسید.

- شش تا ده هزار برابر است با ..... هزار یعنی عدد .....

- دو تا ده هزار برابر است با ..... هزار یعنی عدد .....

- شصت و پنج تا ده هزار برابر است با ..... هزار یعنی عدد .....

..... تا ده هزار تا برابر است با صد و سی هزار یعنی عدد .....

..... تا ده هزار تا برابر است با ..... هزار یعنی عدد ۷۵۰۰۰

