



دفترچه‌ی شماره‌ی (۱)

صبح چهارشنبه ۹۵/۱۱/۲۷

شما جوان‌های محصل و سایر جوان‌ها امید من هستید.
امام خمینی (ره)



آزمون‌های سراسر گاج



سال تحصیلی ۹۶-۱۳۹۵

آزمون شماره‌ی (۷) پیشرفت تحصیلی

مقطع ابتدایی

پایه‌ی دوم

نام و نام خانوادگی:	شماره‌ی داوطلبی:
تعداد سؤال: ۳۵	مدت پاسخگویی: ۷۰ دقیقه

عنوان مواد امتحانی آزمون **دوم ابتدایی**، تعداد، شماره‌ی سؤالات و مدت پاسخگویی

ردیف	مواد امتحانی	تعداد سؤال	شماره‌ی سؤال		مدت پاسخگویی
			از	تا	
۱	هدیه‌های آسمان	۵	۱	۵	۱۰ دقیقه
۲	فارسی	۱۰	۶	۱۵	۱۵ دقیقه
۳	علوم تجربی	۱۰	۱۶	۲۵	۲۰ دقیقه
۴	ریاضی	۱۰	۲۶	۳۵	۲۵ دقیقه



۲۰۰۰۶۴۱۹



telegram.me/Gajir

راه‌های ارتباطی با واحد آزمون



instagram.com/Gaj_azmoon



هدیه‌های آسمان

- ۱- کدام گزینه نام افراد خانواده‌ی پیامبر (ص)، است؟
- (۱) حضرت فاطمه (س) (۲) امام حسن (ع)
(۳) امام حسین (ع) (۴) همه‌ی گزینه‌ها صحیح هستند.
- ۲- بهترین راه حرف زدن با خداوند مهربان، چیست؟
- (۱) رفتن به زیارتگاه‌ها (۲) خواندن نماز (۳) کمک به نیازمندان (۴) قرآن خواندن
- ۳- برای خواندن یک نماز دو رکعتی، ابتدا چه کاری انجام می‌دهیم؟
- (۱) رو به قبله می‌ایستیم و نیت می‌کنیم. (۲) دست‌ها را تا نزدیک گوش‌ها بالا می‌بریم.
(۳) سوره‌ی حمد را می‌خوانیم. (۴) سوره‌ی توحید را می‌خوانیم.
- ۴- در هنگام رکوع و سجده‌ی نماز واجب، کدام گزینه را سه مرتبه تکرار می‌کنیم؟
- (۱) سُبْحَانَ اللَّهِ (۲) اللَّهُ أَكْبَرُ (۳) صَلَوَاتُ (۴) اَلْحَمْدُ لِلَّهِ
- ۵- امام علی (ع) و حضرت فاطمه (س)، برای سلامتی کودکان بیمار خود دعا کردند که اگر حال آن‌ها خوب شود
- (۱) به فقرا کمک کنند (۲) بین مردم نان پخش کنند
(۳) سه روز روزه بگیرند (۴) غذای خود را به نیازمندان بدهند

فارسی

- ۶- کدام جمله‌ی زیر، غلط املائی ندارد؟
- (۱) رازی به زحمت شما نیستم.
(۲) عکاسی هم یک هنر است.
(۳) اندکی ثبر کن تا ظرفی بیاورم.
(۴) سعی می‌کنم، نغاشی کردن را خوب یاد بگیرم.
- ۷- کدام گزینه، جمله‌ی «نیکا سفالگر» را کامل می‌کند؟
- (۱) خواهم شد (۲) خواهند شد (۳) خواهیم شد (۴) خواهد شد
- ۸- کدام کلمه‌ی زیر با «گر» ساخته شده است؟
- (۱) نویسندگی (۲) بازیگر (۳) آموزگار (۴) پروردگار
- ۹- کدام گزینه در پایان جمله‌ی درهم ریخته‌ی زیر قرار می‌گیرد؟
- «زیبایی‌ها - زیباست - و - خداوند - دوست دارد - را»
- (۱) دوست دارد (۲) زیباست (۳) زیبایی‌ها (۴) خداوند



۱۰- نوازنده با کدام یک از ابزار زیر، کار می‌کند؟

- (۱) قلم‌مو (۲) فیلم (۳) سه‌تار (۴) نقشه

۱۱- سفالگران با کدام یک از وسایل زیر، کار نمی‌کنند؟

- (۱) گِل (۲) چرخ (۳) کوره (۴) دوربین

۱۲- کدام وسیله‌ی زیر، مربوط به شغل کفّاشی است؟

- (۱) پارچه (۲) واکس (۳) آجر (۴) کاغذ

۱۳- با توجه به کلمه‌ی داخل کمانک، کدام جمله‌ی زیر صحیح است؟

«من لباسم را امانت دادم. (شما)»

- (۱) تو لباست را امانت دادی.
(۲) آن‌ها لباسشان را امانت دادند.
(۳) شما لباستان را امانت دادید.
(۴) او لباسش را امانت داد.

۱۴- به اول کدام کلمه‌ی زیر، می‌توان «تخت» اضافه کرد؟

- (۱) خواب (۲) مداد (۳) تاب (۴) کتاب

۱۵- به چه کسی «هنرمند» می‌گویند؟

- (۱) به همه چیز با دقت نگاه کند.
(۲) سریع و بدون صبر کار کند.
(۳) بدون علم و دانش کاری را انجام دهد.
(۴) بدون برنامه‌ریزی کاری را انجام دهد.

علوم تجربی

۱۶- با کدام یک از وسایل زیر به‌عنوان یک ماده‌ی دورریز، نمی‌توان چیزهای جدید ساخت؟

- (۱) بطری پلاستیکی (۲) چوب بستنی (۳) سطل خالی ماست (۴) بنزین

۱۷- برای ساختن وسایل جدید، باید چه کارهایی انجام بدهیم؟

- (۱) با نگاه کردن به اطراف خود، چیزی را برای ساختن انتخاب کنیم.
(۲) مواد لازم را برای ساختن آن چیز پیدا کنیم.
(۳) ابزار موردنیاز را آماده کنیم.
(۴) همه‌ی موارد صحیح هستند.

۱۸- کدام یک از میوه‌های زیر، تعداد دانه‌های بیش‌تر و سفت‌تری دارد؟

- (۱) هلو (۲) کدو (۳) هندوانه (۴) نارنگی

۱۹- از دانه‌ها چه استفاده‌هایی می‌کنیم؟

- (۱) استفاده‌ی دارویی (۲) پختن غذا (۳) به‌وجود آوردن گیاه (۴) همه‌ی موارد



۲۰- کدام گزینه راجع به دانه‌ها درست نیست؟

- (۱) همه‌ی دانه‌ها پوسته دارند. (۲) همه‌ی دانه‌ها به یک اندازه هستند.
(۳) همه‌ی دانه‌ها گیاهک دارند. (۴) همه‌ی دانه‌ها اندوخته‌ی غذایی دارند.

۲۱- کدام یک از دانه‌های زیر، به وسیله‌ی باد بهتر جابه‌جا می‌شود؟

- (۱) ذرت (۲) لوبیا (۳) قاصدک (۴) برنج

۲۲- کدام یک از گیاهان زیر را می‌توان با قلمه زدن زیاد کرد؟

- (۱) شمعدانی (۲) گندم (۳) لوبیا (۴) باقالا

۲۳- کدام یک به پراکنده‌شدن دانه‌ها کمک می‌کند؟

- (۱) انسان‌ها و جانوران (۲) بادها (۳) آب‌ها (۴) همه‌ی موارد

۲۴- دانه برای رشد به چه چیزهایی احتیاج دارد؟

- (۱) گرما و آب زیاد (۲) آب و نور کم (۳) آب، نور، دما و خاک مناسب (۴) خاک سفت و آب زیاد

۲۵- کدام یک از دانه‌های زیر، خوراکی است؟

- (۱) هلو (۲) فندق (۳) سیب (۴) انبه

ریاضی

۲۶- عدد ۶۵۱، به کدام عدد، نزدیک‌تر است؟

- (۱) ۶۶۰ (۲) ۶۵۵ (۳) ۶۵۰ (۴) ۶۴۰

۲۷- بازشده‌ی عدد ۷۸۳، در کدام گزینه‌ی زیر صحیح است؟

- (۱) $۷۰۰ + ۳$ (۲) $۷۰۰ + ۸۰ + ۳$ (۳) $۷۰۰ + ۸۰$ (۴) $۳ + ۸۰۰ + ۷۰$

۲۸- کدام ساعت زیر، یک ربع بعد از ساعت ۱۰:۰۵ را نشان می‌دهد؟



(۴)



(۳)



(۲)



(۱)





۲۹- در وسایل اندازه‌گیری، مانند متر خیاطی و خطکش، واحد اندازه‌گیری چیست؟

- (۱) درازا (۲) متر (۳) سانتی‌متر (۴) پهنا

$$60 - \bigcirc = 38$$

۳۰- در دایره، چه عددی می‌توان نوشت؟

- (۱) ۲۰ (۲) ۲۲ (۳) ۳۰ (۴) ۳۲

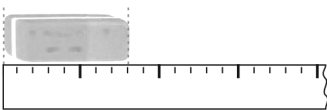
۳۱- کدام جمله، در مورد اندازه‌ی طول پاک‌کن، صحیح نیست؟

(۱) اندازه‌ی طول پاک‌کن، ۸ قسمت کوچک است.

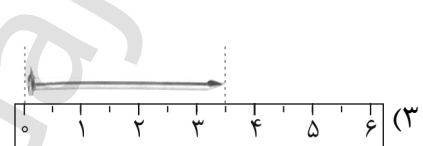
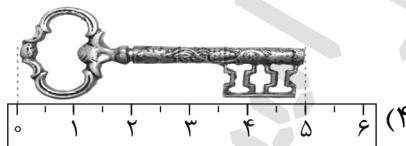
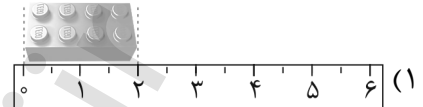
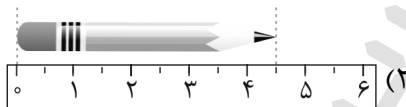
(۲) اندازه‌ی طول پاک‌کن، ۱ قسمت بزرگ و ۳ قسمت کوچک است.

(۳) اندازه‌ی طول پاک‌کن ۸ متر است.

(۴) گزینه‌های (۱) و (۲) صحیح هستند.



۳۲- طول کدام شکل زیر، ۵ سانتی‌متر است؟



۳۳- با حذف رقم یکان و دهگان $244 + 328$ ، جمع تقریبی کدام گزینه صحیح است؟

$$\begin{array}{r} 204 \\ + 308 \\ \hline \end{array} \quad (4)$$

$$\begin{array}{r} 245 \\ + 400 \\ \hline \end{array} \quad (3)$$

$$\begin{array}{r} 200 \\ + 300 \\ \hline \end{array} \quad (2)$$

$$\begin{array}{r} 240 \\ + 320 \\ \hline \end{array} \quad (1)$$

۳۴- کدام گزینه عدد «۴۱۷» را به حروف نشان می‌دهد؟

- (۱) چهارصد و هفده (۲) چهارصد و هفت (۳) چهارصد و ده (۴) صد و چهارده

۳۵- رامین ۸۹ امتیاز دارد. او ابتدا به یک سؤال ۱۰ امتیازی پاسخ درست داد، بعد با یک سؤال ۸ امتیاز از دست داد. حالا او چند امتیاز دارد؟

- (۱) ۸۱ (۲) ۹۹ (۳) ۹۱ (۴) ۱۸

