



۱- شبکه ای استوانه ای شکل داریم به شعاع ۵۰ سانتی متر و به ارتفاع ۷۰ سانتی متر که در آن آب ریخته ایم . گنجایش شبکه چند لیتر است ؟

۲- مریم از مقوا جعبه ای به شکل مکعب مستطیل ساخته که طول و عرض و ارتفاع آن به ترتیب ۸ و ۷ و ۵ سانتی متر است ، او چقدر مقوا مصرف کرده ؟

۳- جاهای خالی را پر کنید و از جدول تناسب کمک بگیرید.

۵ سانتی متر مکعب دسیمتر مکعب

۱۲ میلی متر مربع متر مربع

۰/۸ کیلومتر سانتی متر

۸۵ گرم کیلوگرم

مربعی که هر ضلع آن متر باشد یک هکتار می شود .

متمم زاویه ۲۵ درجه است .

۴- ویژگی های دو زاویه متقابل به راس را توضیح دهید و آن را رسم کنید .

۵- فروشنده ای جنسی را به قیمت ۴۸ هزار تومان خریده است . او می خواهد %۲۵ سود ببرد جنس را باید چند بفروشد ؟

۶- سه هفتم باک ماشینی بنزین دارد، گنجایش باک بنزین ماشین را با ۳۶ لیتر بنزین به ارزش لیتری ۱۰۰۰ تومان پر کرده

ایم. گنجایش باک چقدر است؟


۷- عبارات زیر را انجام دهید.

$$\frac{3/14 - 1/989}{\frac{2}{3}} =$$


۸- الگوی شماره ۱۲ چیست؟ الگوی شماره ۴ را رسم کنید.



(۱)



(۲)



(۳)

۹- کوچک ترین مخرج مشترک بین سه کسر $\frac{1}{3}$ ، $\frac{5}{4}$ ، $\frac{2}{15}$ را پیدا کرده و کسرها را مقایسه کن.

۱۰- در جاهای خالی کلمه ی مناسب بنویس.

۱- برای تقسیم دو کسر کافی است که کسر اول را در کسر دوم ضرب کنیم.

۲- همه ی اعداد صحیح منفی از صفر هستند.

۳- هر عدد صحیح از هر عدد صحیح کوچکتر است.

۱۱- چگونه متوجه می شویم که عددی بر ۹ بخش پذیر است؟

۱۲- سه کسر بین $\frac{1}{8}$ و $\frac{1}{9}$ را بنویسید.

۱۳- جمع و تفریق را روی محور به نمایش بگذارید.

$$1/1 - 0/37 =$$

$$2\frac{1}{3} + 1\frac{1}{2} =$$

۱۴- کسرها را به صورت عدد اعشاری بنویس و عدد اعشاری را به صورت کسر بنویس .

$$\frac{۱۲}{۸۵} =$$

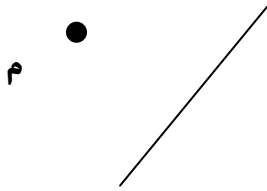
$$\frac{۹۸}{۱۰۰} =$$

$$۳/۴۸۹ =$$

۱۵- تقسیم را تا دو رقم اعشار به دست آورید .

$$۱۴ \div ۳/۱$$

۱۶- قرینه خط را نسبت به نقطه (م) به دست آورید .



ارزیابی معلم	😊	☹️	😐
درست و صحیح نویسی			
تحویل به موقع			
زیبا نویسی و رعایت خط تحریری			
فعالیت ویژه			