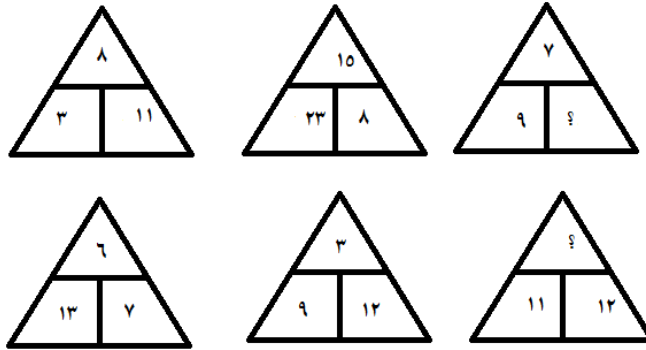
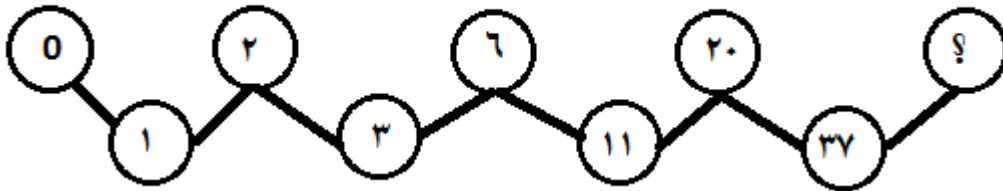




۱- با توجه به رابطه ی بین اعداد درون مثلث ها به جای ؟ عدد مناسب بنویس .



۲- با توجه به رابطه بین اعداد داخل دایره ها به جای ؟ چه عددی قرار می گیرد ؟



۳- سیما یک بار $\frac{1}{3}$ پولش و بار دیگر $\frac{1}{2}$ از آن را خرج کرد و ۱۲۰۰ تومان برایش باقی ماند .


او چقدر خرج کرده ؟ و کل پولش چقدر بوده است ؟

۴- عدد های زیر را از بزرگ به کوچک مرتب کن .

$\frac{9}{2}$ $\frac{11}{5}$ $\frac{2}{3}$ $\frac{15}{5}$ $\frac{10}{13}$ $\frac{3}{7}$ $\frac{10}{3}$

۵- سه کیلو گرم زرشک را در چند دسته $\frac{2}{5}$ کیلو گرمی می توانیم بسته بندی کنیم و چقدر باقی می ماند . روی محور نشان

بده .



۶- کدام یک صحیح می باشد آن را علامت بزن .

$\frac{2}{3}$ از $\frac{1}{5}$ یک عدد یعنی $\frac{3}{8}$ آن عدد

عدد $3\frac{1}{7}$ بین ۳ و ۴ قرار دارد

$2\frac{2}{7}$ بزرگ تر از ۳ است .

کسری را می توان به عدد مخلوط تبدیل کرد که صورتش از مخرجش بزرگ تر باشد .




۷- عملیات زیر را انجام بده .

$$3\frac{1}{4} - 2\frac{1}{5} =$$

$$100 \times 1\frac{7}{8} =$$

$$6 \div 2\frac{1}{5} =$$

$$13\frac{1}{3} - 11\frac{1}{2} =$$

			ارزیابی معلم
			درست و صحیح نویسی
			تحویل به موقع
			زیبا نویسی و رعایت خط تحریری
			فعالیت ویژه

