

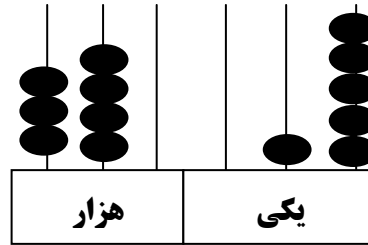
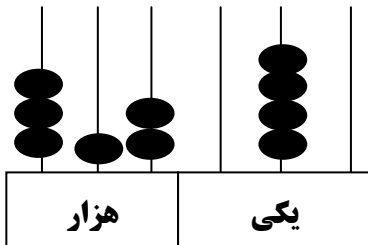


ریاضی

۱- اعداد زیر را به حروف بنویس .

۹۶۵۶۵۹ = _____ ۴۲۲۲۰۲۰ = _____ ۶۰۰۰۰۶ = _____

۲- عددی را که هر شکل نشان می دهد بنویس .




۳- عدد های مورد نظر را بنویس .

الف) کوچکترین عدد ۵ رقمی بدون تکرار رقم :


ب) بزرگترین عدد ۶ رقمی با رقم های (۵-۷-۰-۳-۹-۱) :

ج) ۳ تا ۱۰۰ تا ۷ + تا ۱۰۰۰۰ تا ۶ + تا ۱۰۰۰ تا ۴ تا ده تایی :

۴- الگوی شکلی زیر را پیدا کنید و یک فرمول برای آن بنویس .



(۱)



(۲)

؟

(۵)

۵- هر یک از اعداد زیر را به صورت گسترده بنویس .

۳۵۲۳۰ → _____

۴۸۴۵ → _____

۱۳۴۶۳ → _____

۲۳۵۴ → _____

۶- اعداد زیر را مقایسه کن .

۹۸۰۵۶ ○ ۲۰۳۱۴۴
۴۹۵۲۵۰ ○ ۴۹۵۹۱

۱۱۱۰۱ ○ ۱۱۱۰۰۱
۶۰۰۳۱۵ ○ ۶۰۰۳۱۵

۷- در زندگی واقعی ، عدد های زیر می توانند چه چیزهایی را نشان دهد . برای هر کدام حداقل دو مورد بنویس .

۸۵۰۰۰ ← و

۲۰۰۰ ← و



			درست و صحیح نویسی
			تحویل به موقع
			زیبا نویسی و رعایت خط تحریری
			فعالیت ویژه