



ریاضی

۱- اگر ۲۵ مهره در اختیار داشته باشی، در چرتکه ی زیر، کوچک ترین و بزرگ ترین عدد را بدون تکرار رقم نشان بده.





هزارها	یکی ها						

کوچک ترین

هزارها	یکی ها						

بزرگ ترین

۲- کالاهای زیر را به قیمت مناسب خود وصل کن .

قیمت	کالا
۱۴۰۰۰	
۳۰۰۰۰۰	
۸۰۰۰۰۰	
۲۵۰۰۰۰۰	

۳- الگوهای زیر را تا مرحله ی بعدی ادامه بده .

۱۵۰۰ - ۱۴۳۰ - ۱۳۶۰ - .....

۸ - ۴ - ۱۲ - ۶ - ۱۸ - ۹ - .....

۴- جدول زیر را کامل کن .

عدد با حروف	عدد با رقم
.....	۸۴۵۰۳۲۶
نهصد و نود و سه میلیون و هشتصد هزار	.....
.....	۳۹۴۱۵۰۰۲
دوازده میلیون و دوازده هزار و دوازده	

ارزیابی معلم	😊	☹️	😐
درست و صحیح نویسی			
تحویل به موقع			
زیبا نویسی و رعایت خط تحریری			