



۱- عملیات زیر را انجام دهید و جواب ها را به ساده ترین صورت بنویسید.

$$11 \div 4 =$$

$$14 \div \frac{3}{7} =$$

$$\frac{3}{5} \div 1 =$$

$$1 \div \frac{5}{9} =$$

۲- در عدد ۵ چند تا  $\frac{2}{3}$  وجود دارد؟ (با رسم شکل)

۳- اگر قطعه ای چوب به طول  $3\frac{3}{5}$  را به ۶ قسمت مساوی تقسیم کنیم طول هر قسمت چه قدر می شود؟

در جاهای خالی عدد مناسب بنویسید. (راه حل نوشته شود)

$\frac{2}{5}$  دقیقه یعنی ..... ثانیه

ربع خمس ۸۰۰ تومان یعنی ..... تومان

$\frac{1}{6}$  از  $\frac{2}{4}$  ساعت یعنی ..... دقیقه

مادر زهرا می خواست برای اتاق دخترش موکت بخرد. طول اتاق او را اندازه گرفت  $3\frac{1}{5}$  متر بود و عرض اتاق او  $2\frac{1}{3}$  متر بود. او باید چند متر مربع موکت تهیه کند.

۱- حاصل عبارت های زیر را به کمک محور بدست آور .

$$1\frac{1}{4} + 2\frac{3}{4} =$$

۲- عملیات زیر را انجام بده و جواب ها را به ساده ترین صورت ممکن بنویس .

$$3\frac{5}{8} + 2\frac{3}{9} =$$

$$4\frac{7}{9} + 2\frac{8}{18} =$$

$$8 - 3\frac{2}{5} =$$




$$2\frac{2}{4} - 1\frac{2}{3} =$$

۳- سارا دیروز برای امتحان ریاضی  $3\frac{4}{5}$  ساعت در صبح و  $2\frac{2}{5}$  ساعت در عصر مطالعه کرده است. او دیروز چند ساعت مطالعه کرده است ( به کمک محور حل کن)

۴- کشاورزی  $2\frac{1}{4}$  هکتار از زمین خود را ذرت و  $1\frac{2}{5}$  آن را یونجه کاشته است. این کشاورز چند هکتار از زمین خود را ذرت و یونجه کاشته است.

۵- مینا  $2\frac{3}{5}$  از کتاب فارسی خود و دوستش مریم  $2\frac{1}{4}$  کتاب فارسی خود را مطالعه کرده اند. کدامیک بیش تر مطالعه کردند؟ چقدر؟

۶- طول یک قطعه آهن ۱۲ متر است از این قطعه یکبار  $5\frac{4}{8}$  متر و بار دیگر  $3\frac{2}{4}$  متر بریدیم چند متر از این آهن باقی مانده است؟

ارزیابی معلم		
		
		درست و صحیح نویسی
		تحويل به موقع
		زیبا نویسی و رعایت خط تحریری
		فعالیت ویژه