






۱- شکل زیر با قسمت های مساوی به ۳ صورت دسته بندی شده است. برای هر دسته بندی جمع مناسب بنویس.



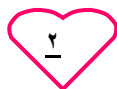
۲- الگوهای داده شده را کامل کن.

..... ، ، ۲۸ ، ۲۱ ، ۷ ، ۱۴

..... ، ، ۶۳ ، ۵۲ ، ۴۱ ، ۳۰

..... ، ، ۹۰ ، ۱۲۰ ، ۱۵۰

۳- با رسم شکل الگو را کامل کن.



۴- جمع و تفریق های زیر را انجام بده.

$$\begin{array}{r} ۸۳۳ \\ - ۲۷۶ \\ \hline \end{array}$$

$$\begin{array}{r} ۵۶۰ \\ - ۱۸۸ \\ \hline \end{array}$$

$$\begin{array}{r} ۴۰۸ \\ - ۲۷۹ \\ \hline \end{array}$$

$$\begin{array}{r} ۱۸۰ \\ - ۵۹۳ \\ \hline \end{array}$$

۵- الگوی بین عدد ها چه عددی است ؟

۶۶۶ - ۷۷۷ - ۸۸۸ - ۹۹۹

۶- باتوجه به تصاویر الگو به سوالات پاسخ بده.

؟



۱

۲

۳

۶

الف: در شکل بالا الگو چه عددی است؟

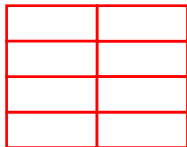
ب: بنویسید که تصویر شماره ۶ از چند مثلث تشکیل شده است؟

۷- دبستان فرشته ها ۳ طبقه دارد. هر طبقه ۵ کلاس و هر کلاس ۷ نیمکت دارد: (از راه جدول حل شود)

الف: دبستان فرشته ها چند کلاس دارد؟

ب: این دبستان چند نیمکت دارد؟

۸- شکل داده شده را به دو صورت دسته بندی کنید و جمع مربوط به هر دسته را بنویس.



تعدادی	خیر	بله	انتظارات آموزشی (خودارزیابی)

