

نام و نام خانوادگی:

نام پدر:

نام درس: آزمون ریاضی اردیبهشت ماه

کلاس: چهارم

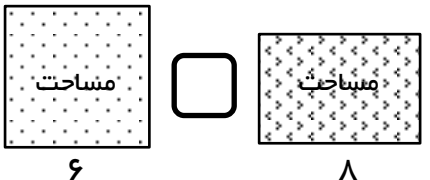
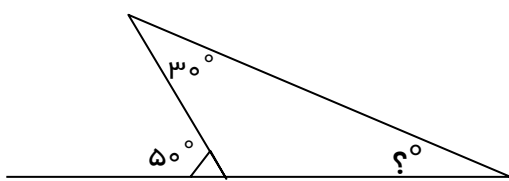
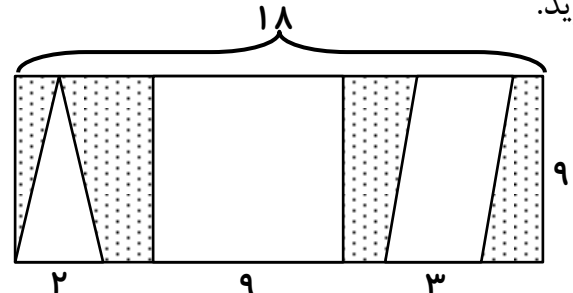


تاریخ: ۱۱ / ۲ / ۹

زمان: ۹۰ دقیقه

نام معلم:

۴	در هریک از الگوهای عددی زیر ، عدد بعدی را مشخص کنید. ، ۱۱۲۵ ، ۳۷۵ ، ۱۲۵ (ب) ، ۷۵۰ ، ۱۵۰۰ ، ۳۰۰۰ (الف)	۱
۸	با توجه به عدد «۸۰۴۹۳۷۲۱۵» به سوالهای زیر ، پاسخ دهید. الف) عدد را به حروف بنویسید: ب) بزرگترین رقم این عدد چند است و در چه مرتبه ای قرار دارد؟ ج) در با ارزش ترین مرتبه ی این عدد چه رقمی قرار دارد؟ د) اگر به عدد بالا (۵۱۰۰۰۰۰۰) اضافه کنیم چه عددی به دست می آید؟	۲
۶	مصطفی ۶۰۰۰۰ تومان پول داشت. او $\frac{2}{3}$ پولش را توپ و ۳۰۰۰۰ تومان را کفش خرید. الف) مصطفی چند تومان برای توپ پرداخته است؟ ب) مصطفی چه کسری از پولش را کفش خرید؟ ج) چه کسری از پولش بایش باقی مانده است؟	۳
۴	کسره‌های مقابل را ساده کنید. $\frac{26}{50} =$ $\frac{85}{90} =$	۴
۶	علی برای مهمانان خود مقداری میوه خرید. شما به علی کمک کنید تا بداند چند تومان باید برای میوه ها پرداخت کند؟ هندوانه = ۱۶ کیلوگرم و هر کیلو ۶۵۰ تومان = آلوجه = ۳ کیلوگرم و هر کیلو ۱۲۰۰۰ تومان = جمع پولی که باید برای خرید میوه ها پرداخت کند.....	۵
۵	اگر بخواهیم ۵ پیتزا را بین ۴ نفر تقسیم کنیم به هر نفر چه کسری از پیتزاها می رسد؟	۶

۸	<p>مقایسه کنید. (< = >)</p> <p>زاویه ۴۰ درجه <input type="checkbox"/> ربع زاویه ۱۶۰ درجه</p> <p>۲۰۰ ثانیه <input type="checkbox"/> ۴ دقیقه</p> <p>۲۹۸۵ کیلوگرم <input type="checkbox"/> ۵ تُن</p> <p>مساحت <input type="checkbox"/> مساحت</p> 	۷
۵	<p>یک ساعت و ده دقیقه بعد از چهار و چهل دقیقه ، چه زمانی را نشان می دهد؟</p>	۸
۵	<p>اندازه ی زاویه های مشخص شده را بدست آورید؟</p> 	۹
۶	<p>دوچرخه سواری مسافت ۴۶ کیلومتری را در سه مرحله می رود. اگر در مرحله اول ۱۲/۶ کیلومتر و در مرحله دوم ۱۸/۷ راه را برود. در مرحله ی سوم چه مسافتی را رفته است؟</p>	۱۶
۶	<p>جمع و تفریق روبرو را روی محور نشان دهید.</p> <p>$۵/۳ - ۴/۹ =$</p>	۱۰
۴	<p>ضرب های زیر را انجام دهید.</p> <p>$۱۲ \times ۰/۲ =$ $۹ \times ۰/۴ =$ $۸۱ \times ۰/۱ =$ $۲۰ \times ۰/۵ =$</p>	۱۱
۷	<p>مساحت قسمت رنگی و محیط شکل زیر را بدست آورید.</p> 	۱۲
۳	<p>سه ویژگی متوازی الاضلاع را بنویسید؟</p>	۱۳

۵	<p>عدد های زیر را به ترتیب از کوچک به بزرگ بنویسید.</p> <p>$۱/۶ * ۰/۹ * ۲/۹ * ۹/۲ * ۶/۹ * ۹/۶ * ۶/۱ * ۹$</p>	۱۴
۴	<p>برای عدد مخلوط روبرو یک شکل مناسب بکشید.</p> <p>$۵ \frac{۶}{۸}$</p>	۱۵
۷	<p>تقسیم روبرو را حل کرده و درستی آن را بنویسید.</p> <p>$۶۰۴۰ \overline{) ۱۴}$</p>	۱۶
۷	<p>محیط شکل های زیر را به طور تقریبی حساب کنید.</p> <div style="display: flex; justify-content: space-around;"> <div data-bbox="223 1276 686 1881"> </div> <div data-bbox="957 1276 1292 1881"> </div> </div>	۱۷
<p>خیلی خوب (۹۰ - ۱۰۰) خوب (۷۰ - ۸۹) قابل قبول (۵۰ - ۶۹) نیاز به تلاش بیشتر (زیر ۵۰)</p>		
<p>رتبه بر اساس امتیاز ۱۰۰ می باشد - مصطفی موجودی</p>		