

نام و نام خانوادگی:

آزمون ریاضی سوم ابتدایی تاریخ: ۱۳۹۵/۰۸/۰۲

کتاب معلم یار

فصل اول: الگوها

آموزگار: فاضلی پور

۱. الگوی عددی زیر را ادامه دهید.

..... - - - - - ۱۲ - ۹ - ۶ - ۳

..... - - - - - ۵۵ - ۵۰ - ۴۵ - ۴۰

۲. جاهای خالی را کامل کنید.

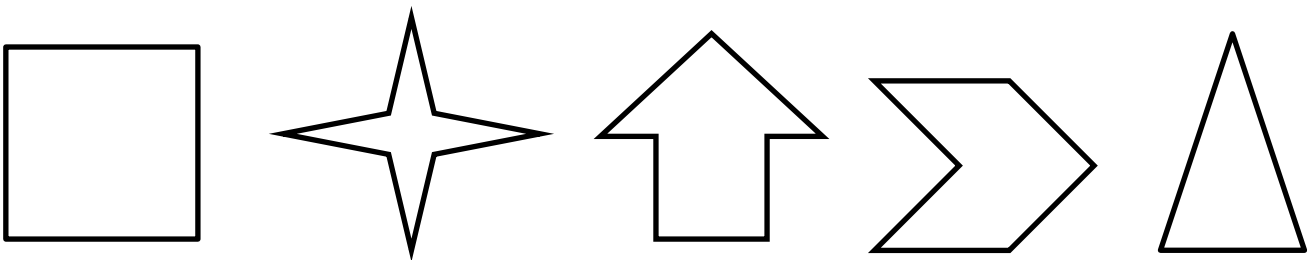
	۶۳
	۴۰
	۲۸
۲۳	
۱۴	

+۱۳

۲۵	
	۳۰
	۴۲
۳۶	
	۶۵

-۱۲

۳. دلبندم خط تقارن شکل های زیر را رسم کنید؟



۴. دلبندم اتوبوس تهران - بوشهر ساعت ۴:۳۰ دقیقه حرکت کرد. این زمان را روی ساعت نشان بده.



۵. نازنیم هر کدام از ساعت های زیر چه ساعتی از بعد از ظهر و قبل از ظهر را نشان می دهند؟



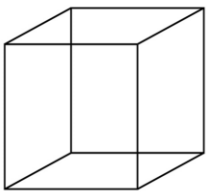
۲ = بعد از ظهر ۶:۳۰ = بعد از ظهر ۸:۲۵ = بعد از ظهر

۱۹:۱۰ = قبل از ظهر ۲۲ = قبل از ظهر ۱۳:۱۹ = قبل از ظهر

۶. گلم از ساعت های زیر کدام ساعت ها بعد از ظهر را نشان می دهد دور آن ها را گردی بکش؟

۱۱ ۱۰ ۲۱ ۶ ۹ ۲۲ ۲۴ ۱۳ ۱۲ ۵ ۱۸

۷. فرزندم نام هر شکل را بنویس.



.....

.....

.....

.....

بازی و ریاضی:

مسعود ۴ خواهر دارد. و هر خواهر او یک برادر دارد. آن ها در کل چند خواهر و برادر هستند؟

۴ (د)

۸ (ج)

۵ (ب)

۹ (الف)

کتاب معلم یار

به خاطر تلاشت این دسته

گل تقدیم به تو

پاز خورد معلم:

