



تلاش هفته (۱۱)

انسان

اسلام


ایران

نام و نام خانوادگی :

پایه سوم

کتاب معلم یار

میلاد رسول اکرم (ص) مبارک باد



| ارزیابی معلم | ** | ** | ** | ** | توضیحات |
|--------------|----|----|----|----|-------------------|
| | * | ** | ** | ** | تحویل به موقع |
| | * | ** | ** | ** | دقت در صحیح نویسی |
| | * | ** | ** | ** | رعایت پاکیزگی |
| | * | ** | ** | ** | زیبا نویسی |

| ارزیابی دانش آموز | ** | ** | ** | ** | توضیحات |
|-------------------|----|----|----|----|---------------------------------|
| | * | ** | ** | ** | به تنهایی انجام دادن تکلیف |
| | * | ** | ** | ** | جمع آوری وسایل بعد از اتمام کار |
| | * | ** | ** | ** | انجام در زمان مناسب |
| | * | ** | ** | ** | به کارگیری سلیقه و خلاقیت |
| | * | ** | ** | ** | پاسخ دادن به طور کامل |

"اجتماعی"

۱-..... یعنی چه کارهایی را باید انجام بدهیم یا انجام ندهیم .

۲-همکاری چه فایده هایی دارد ؟

۳- دو مورد از مقررات خانه و مدرسه ی خود را بیان کنید .

۴- اگر اعضای خانواده مقررات را رعایت نکنند چه اتفاقی می افتد ؟

"هدیه"

۱-امام جعفر صادق (ع) امام ما و فرزند امام(ع) است.

۲- امام جعفر صادق (ع) مانند پدرش همه ی مردم را به تشویق

می کرد و خود زیادی تربیت کرد .

۳- نام پدر حضرت محمد (ص) نام مادرش بود

۴- چرا به امام ششم صادق می گفتند ؟

۵- حضرت محمد (ص) را از کدام شهر به صحرا آوردند؟





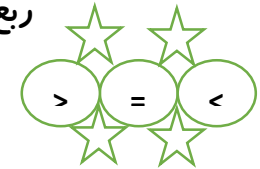
"ریاضی"

۱. با توجه به شکل های زیر کسرها را با هم مقایسه کنید .



$\frac{1}{2}$ ربع

$\frac{1}{4}$ $\frac{1}{4}$



$\frac{2}{5}$ $\frac{1}{4}$

$\frac{1}{3}$ $\frac{2}{3}$

۲. سمیه $\frac{2}{5}$ کتاب فارسی و احسان $\frac{4}{5}$ کتاب فارسی را خوانده اند . کدام یک بیشتر خوانده

است ؟ (بارسم شکل)

۳. عارفه شکل روبه رو را رنگ کرده است . چه کسری از شکل رنگ شده است ؟ چه

کسری رنگ نیست؟



"فارسی"

باتوجه به متن زیر جدول را کامل کن.

زیر سایه ی درخت نشسته بودم . ناگهان به یاد نعمت های خدا افتادم و فصل های

سال با همه ی زیبایی هایش به خاطر آمد . اکنون زمستان را طی می کنیم . درختان

سرسبز می شوند و برف کوه ها آب می شود پس از آن بهار از راه می رسد .

| فعل زمان گذشته | فعل زمان حال |
|----------------|--------------|
| | |

۲. تصویر زیر کدام انسان فداکار است . در مورد فداکاری او یک بند بنویسید .



۳. کلمات درهم ریخته ی زیر را به صورت جمله ای کامل مرتب کنید .

انسان های فداکار - سرمشق - زندگی - راه - و - چراغ - ماست

"فارسی"

۱. حروف جاافتاده را پیدا کنید و در جای خالی بنویسید .


"ع - ع - ع - ع - ت - ط - ح - ح - غ - غ - غ - غ - غ - غ"

اش.....ال
ش.....له
شجا.....ت
خ.....ر
ا.....ترام
آ.....از

۲. مخالف کلمه ها را از متن درس ۶ پیدا کنید و بنویسید .

مردان = باز
صلح = سریع
دوست = ترسو
کوچک = عقب نشینی

۳. نام وسایل زیر را بنویسید .



.....

نام یکی از تصاویر بالا را به دلخواه انتخاب کن و از زبان خودش او را معرفی کن. (در یک بند)

من.....

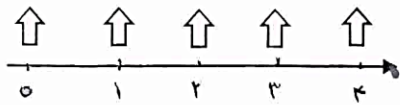
"ریاضی"

در جاهای خالی عدد مناسب بنویس .

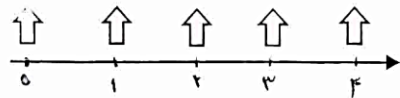
۲متر و $\frac{۳۰}{۱۰۰}$ از یک متر یعنی متر و سانتی متر

ساعت ۴ و ربع یعنی ساعت و دقیقه

مادر شئل قرمزی به دخترش این آدرس ها را داد تا به خانه ی مادربزرگش برود
آدرس را به طور تقریبی روی این محور نشان بده .



$\frac{۲}{۶}$ واحد بعد از عدد ۳



$\frac{۲}{۳}$ واحد مانده به عدد ۴

برای کسرهای روبه رو شکل بکش .

$$\frac{۱}{۳} = \frac{۲}{۶} = \frac{۳}{۹}$$

"علوم"

جاهای خالی را با استفاده از کلمه ی مناسب پر کنید ؟

۱. از ذوب شدن یخ به وجود می آید .

۲. آب رود به می ریزد .

۳. رود بزرگ از متصل شدن چند کوچک به وجود می آید .

۴. همیشه در مقداری بخار آب وجود دارد.

۵. اگر مقداری بخار آب هوا زیاد شود ، در آسمان به صورت در می آید .

۶. بعضی از ابرها سبب می شوند .

۷. وقتی خورشید به دریا می تابد ، آب دریا به صورت وارد هوا می شوند .

۸. برف ها پس از ذوب شدن به شکل از کوه سرازیر می شوند .
دخترم با جمع آوری اطلاعات فایده و ضرر حفر چاه و قنات را بنویس .

۹- تغییر حالت هایی را که مشاهده می کنی نام ببر .