



تاریخ:


پایه: دوم

نام و نام خانوادگی:

۱. در یک جعبه مداد، ۹ مداد سبز و ۳ مداد قرمز است.

✎ مداد از مداد سبز است.

✎ مداد مداد قرمز است.



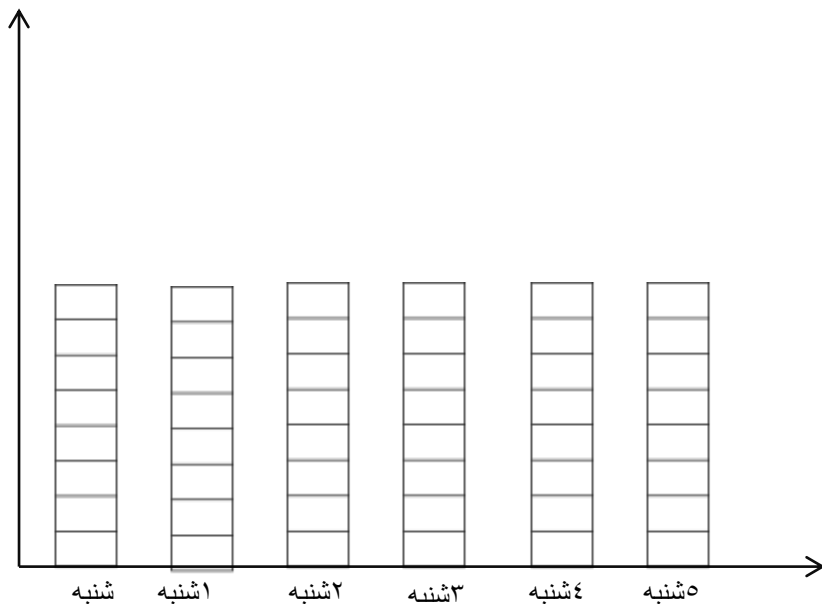
..... تا تایی می شود

۲. جاهای خالی را پر کن.



..... تا تایی می شود

۳. نمودار ستونی ساعت انجام تکالیف خود را در یک هفته با رنگ کردن یک مستطیل کامل کن. (برای هر ساعت یک مستطیل)



✎ در کدام روز بیشترین فعالیت درس را داشته اید؟

✎ در کدام روز کمترین فعالیت درسی را داشته اید؟

✎ آیا روزهای هم اندازه داشته اید؟

۴. اعداد را در هر مربع مخصوص به خود بنویس.

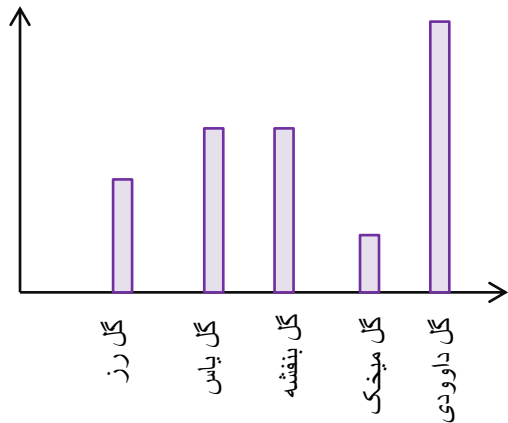
۱۴ - ۱۷ - ۳ - ۱۵ - ۲۶ - ۳۳ - ۵۰ - ۱۹ - ۴۹ - ۱۱

فرد

زوج

۵. دو عدد یک رقمی زوج بنویس.

سه عدد دو رقمی فرد بنویس.



۶. با توجه به نمودار جواب بده.

کدام گل از همه بیشتر کاشته شده است؟

کدام گل از همه کمتر کاشته شده است؟

کدام گل های به اندازه ی هم کاشته شده اند؟

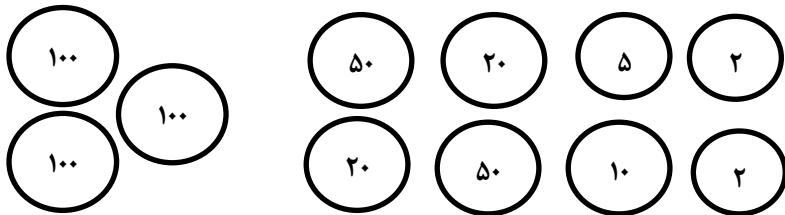
۷. الگو را ادامه بده.

۲۳۲ - ۲۳۴ - ۲۳۶ -

۸۴۳ - ۸۴۵ - ۸۴۷ -

۸. به مناسبت عید کوچه را با ۱۹۴ لامپ زرد و قرمز چراغانی کرده اند. اگر ۵۶ لامپ قرمز باشد چند لامپ زرد است؟

۹. بیتا می خواهد یک کتاب ۲۷۹ ریالی بخرد. مبلغ کتاب را از میان پول ها جدا کن.



۱۰. قد زهرا ۱۵۲ سانتی مترو قد مینا ۱۴۹ سانتی متر است. قد کدام یک بلندتر است؟ چند سانتی متر؟

(ب) قد زهرا - ۳ سانتی متر

(الف) قد مینا - ۳ سانتی متر

(د) قد مینا - ۵ سانتی متر

(ج) قد زهرا - ۴ سانتی متر

۱۱. عددها را به صورت نمونه بنویس.

$$۴۵۲ = ۴۰۰ + ۵۰ + ۲$$

$$۶۹۸ = \dots\dots\dots$$

$$۵۰۷ = \dots\dots\dots$$

$$۹۷۰ = \dots\dots\dots$$