

آزمون مطالعات اجتماعی

تاریخ اجرا:
نام آموزگار:

بسمه تعالی

اداره کل آموزش و پرورش استان اصفهان
اداره آموزش و پرورش منطقه پیربکران
دبستان مقداد سمسار

نام:
نام خانوادگی:
نام پدر:
پایه: پنجم دبستان

هدف:

- خط استوا و نصف النهار را تعریف می کند.
- اقیانوس ها و قاره های جهان را می شناسد.
- با آب و هوای مختلف کره زمین آشنایی دارد.

- ۱- جملات زیر را با کلمه مناسب کامل کنید.
- زمانی که خورشید به طور مستقیم در بالای نقطه ای که ما ایستاده ایم قرار می گیرد است.
 - خورشید هر روز از طلوع و از غروب می کند.
 - یک دور چرخش زمین به دور خورشید طول می کشد.

۲- درستی یا نادرستی جملات زیر را مشخص کنید.

- پرجمعیت ترین قاره ی جهان ، آسیا نام دارد. درست نادرست
- یک دور چرخش زمین به دور خودش ۳۰ ساعت طول می کشد. درست نادرست

۳- پاسخ صحیح سوالات زیر با علامت × مشخص کنید.

الف) کدام خط زمین را به دو نیکره شمالی و جنوبی تقسیم می کند؟

- (۱) خط استوا (۲) مدار (۳) نصف النهار مبدأ (۴) مدار

ب) کدام دسته از کشورهای زیر ، پرجمعیت ترین کشورهای جهان هستند؟

- (۱) ایران - چین (۲) هند - مالزی (۳) چین - هند (۴) هند - ایران

۴- هریک از کلمه ها یا عبارت های زیر را تعریف کنید.

- قاره:

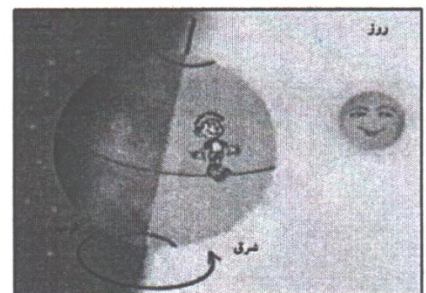
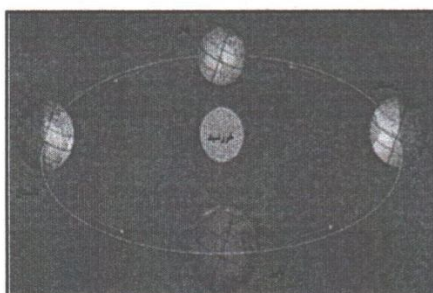
- اقیانوس:

- نصف النهار:


۵- تصاویر زیر ، انواع حرکت های زمین را نشان می دهد .

الف) نام این حرکت های زمین را بنویسید.

ب) نتایج هر کدام را بنویسید.



۶- بر روی دایره ی زیر ، محل قطب شمال و جنوب ، خط استوا ، نصف النهار مبدا را مشخص کنید.



۷- مهم ترین نصف النهار کدام است ؟ ویژگی آن را بنویسید.

۸- با توجه به نقشه ی قاره های جهان به سوالات پاسخ دهید.



۱) نام قاره های اروپا ، آسیا ، آفریقا و استرالیا را بر روی نقشه بنویسید.

۲) نام اقیانوس آرام را بر روی نقشه بنویسید.

۳) ایران در کدام قاره ، قرار دارد؟

۹- با توجه به آنچه یاد گرفته اید ، جدول شیوه های مختلف زندگی در قاره ی آسیا را کامل کنید.

قاره ی آسیا	ناحیه	آب و هوا	تغذیه	مسکن	نوع فعالیت	پوشش گیاهی و جانوری
	نواحی استوایی	میوه های جنگلی			
	نواحی قطبی			شکار	
	نواحی بیابانی				پوشش گیاهی فقیر و

انتظارات معلم

انواع حرکت های زمین را نام می برد و تعریف می کند.

علت پیدایش شب و روز و فصول را بیان می کند.

خط استوا و نصف النهار را تعریف می کند.

قاره ها و اقیانوس ها را تعریف و محل آنها را روی نقشه مشخص می کند.

آب و هوا، تغذیه، مسکن و پوشش گیاهی و جانوری نواحی مختلف زمین را بیان می کند.

ارائه بازخورد دانش آموز:

۴ ۳ ۲ ۱