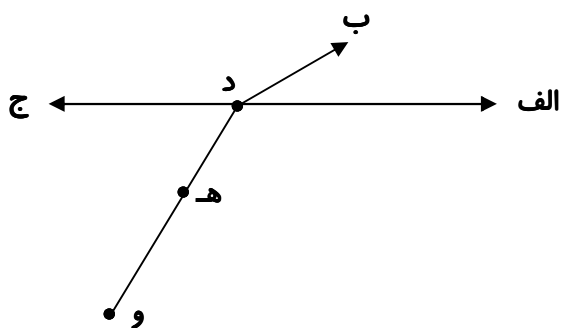




۱- با توجه به شکل تعداد خط‌های راست ، پاره خط و نیم خط را مشخص کنید و نام ببرید .

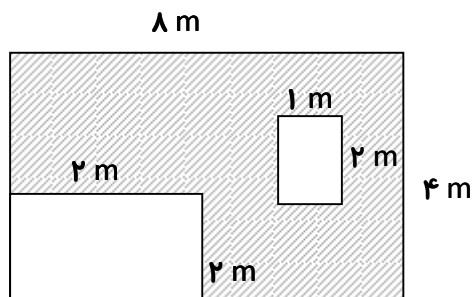
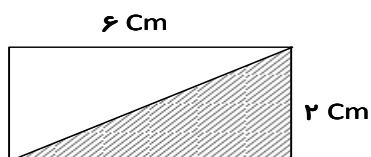


خط راست :

نیم خط :

پاره خط :

۲- مساحت قسمت رنگ شده را حساب کنید .





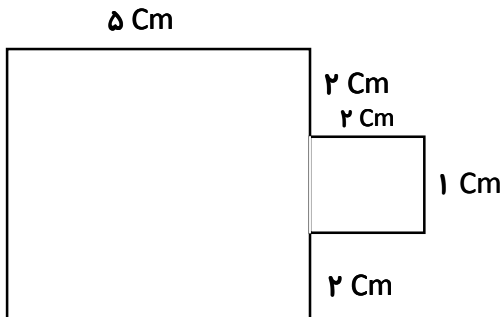
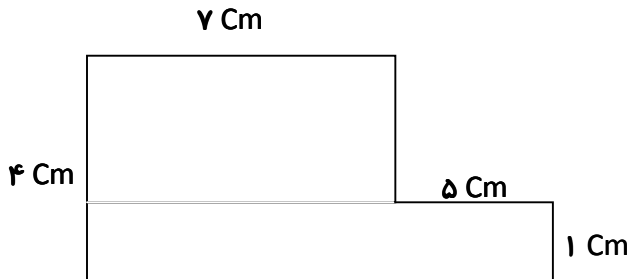
۳- مساحت مربعی ۳۶ مترمربع است ، اندازه‌ی هر ضلع آن چند سانتی‌متر است ؟

۴- مریم می‌خواهد دور مقوای ۶۰×۴۰ سانتی‌متر مربع خود روبان بچسباند ، اگر او روی مقوای خود یک عکس ۸×۶ سانتی‌متر

قرار داده باشد ، او روی هم چند متر و چند سانتی‌متر روبان برای دور مقوا و عکس لازم دارد ؟



۵- مساحت و محیط شکل‌های زیر را به دست آورید .



۶- اگر قیمت یک دفتر دو برابر یک مداد ۲۵۰۰ تومانی باشد . آن دو روی هم چقدر قیمت دارند ؟

