



بیک آدینه



شماره: هفته سوم اسفند

پایه: دوم

نام و نام خانوادگی:

شهادت حضرت فاطمه (س) تسلیت باد



دستان و پیش دستان غیر دولتی و تحرانہ صدر ا

۱) شعر زیر با کدام گزینه کامل می شود؟

خانه ها را آفتاب می زند رنگ / فرش ها را مادرم می تکاند در

- الف) نشاط - حیاط ب) نشاط - عید ج) حیاط - نشاط

۲) در هنگام جمع بستن کدام کلمه با «ان» نشانه ی «ه» حذف می شود؟

- الف) ماه ب) دیده ج) روباه

۳) ترتیب رنگ های پرچم در کدام گزینه درست آمده است؟

- الف) سبز، قرمز، سفید ب) قرمز، سفید، سبز ج) سبز، سفید، قرمز

۴) در کدام گزینه، کلمه های «مشابه» با معنی متفاوت وجود دارد؟

- الف) کشتی بار پارچه داشت. کارگران بار را از کشتی خارج کردند.
- ب) مسئول باغ وحش، به بچه شیرها که تازه به دنیا آمده بودند، شیر داد.
- ج) ارنیکا، گل ها را در گلدان که در آن گل نبود کاشت.

۵) سربلندی یعنی

- الف) شادابی ب) بلندبودن ج) افتخار

۶) حرف «ی» در پایان کدام گزینه نشانه ی «جنس» آن چیز نمی باشد؟

الف) آهنی ب) چوبی ج) سینی

۷) نام کتاب فردوسی و مولوی کدام گزینه می باشد؟

الف) شاهنامه - مثنوی ب) بوستان - مثنوی ج) شاهنامه - گلستان

۸) شعر زیبایی «با پرستوها شاد» سروده ی چه کسی است؟

الف) افشین اعلا ب) پوروهاب ج) ناصر کشاورز

۹) کدام گزینه با بقیه گزینه ها هم معنی نیست؟

الف) سعی ب) سر حال ج) کوشش

۱۰) کدام گزینه، جای خالی را کامل می کند؟

ما به اردو رفته بودیم.

الف) سال آینده ب) چهار روز دیگر ج) هفته ی قبل

۱۱) جاهای خالی را با کلمه های مناسب کامل کنید.

* نوروز فصل سرسبزی و زیبایی های طبیعت است.

* مردم ما پیش از نوروز می کنند و در جشن شرکت می کنند.

* تحویل سال، است که سال به پایان می رسد.

۱۲) بخوان و بیندیش «عمونوروز» را یک بار خوب مطالعه کنید سپس به سؤالات زیر پاسخ دهید.

الف) مردم خود را چگونه برای آمدن عمو نوروز آماده می کنند؟

.....

ب) هنگام آمدن عمو نوروز، ننه سرما چه کار می کرد؟

.....

ج) عمو نوروز، چگونه از ننه سرما خداحافظی کرد؟

.....

۱۳) برای جدول زیر سؤال طراحی کنید.

				ف	← ۱	-۱
				ف	← ۲	-۲
				ف	← ۳	-۳
				ف	← ۴	-۴
				ف	← ۵	-۵
				ف	← ۶	-۶

۱) آوا و آنیسا ۴ سکه ی ده ریالی و ۹ سکه ی صدریالی و ۲ سکه ی یک ریالی دارند. اگر ۳ سکه ی صدریالی و ۴ سکه ی یک ریالی و ۵ سکه ی ده ریالی از پولشان رابستنی بخرند. چندریال برایشان باقی می ماند؟ (با راه حل و جلونویسی)

۲) جمع و تفریق ها را انجام دهید.

$$\begin{array}{r} ۸۳۶ \\ - ۲۹۵ \\ \hline \end{array}$$

$$\begin{array}{r} ۴۸۳ \\ + ۳۵۷ \\ \hline \end{array}$$

$$\begin{array}{r} ۹۱۴ \\ - ۶۳۷ \\ \hline \end{array}$$

۳) در الگوی زمانی زیر، ساعت بعدی چند است؟

۶:۴۰ - ۶:۲۵ - ۶:۱۰ - -

۶:۰۵ (ج)

۵:۵۵ (ب)

۶:۰۰ (الف)

۴) مهدیس ۲۴ سال دارد. او ۱۳ ساله بود که برادرش به دنیا آمد. اکنون مهدیس و برادرش روی هم چند سال دارند؟

- الف) ۳۷ سال ب) ۱۱ سال ج) ۳۵ سال

۵) خانه ای که در جدول ستاره دارد به ترتیب چه عددهایی قرار می گیرد؟

- الف) ۸۲۰ - ۷۶۰ - ۸۹۰ ب) ۸۸۰ - ۷۶۰ - ۸۲۰
- ج) ۷۶۰ - ۸۲۰ - ۸۹۰

۶۱۰	۶۲۰								۷۰۰
				۷۵۰	☆				
	☆							☆	

۶) سن پروانه ۲ سال و ۷ روز می باشد. اگر هر سال ۳۶۵ روز باشد. سن او به کدام عدد نزدیک تر است؟

- الف) ۷۴۰ ب) ۷۳۰ ج) ۸۰۰

۷) ۳۲۵ عدد بعد از ۱۴۸ کدام عدد می باشد؟

- الف) ۴۷۳ ب) ۱۷۷ ج) ۴۰۰

۸) من چه عددی هستم، ۵۸ تا به من اضافه کنی و از حاصلم ۹ تا کم کنی عدد ۲۱۲ می شوم؟

- الف) ۴۹۰ ب) ۲۲۱ ج) ۱۶۳

۹) یک سگه ی ۲۵۰ ریالی برابر چند تا سگه ی ده ریالی است؟

الف) ۲۵۰ ب) ۲۵ ج) ۱۰

۱۰) حالا که در حال انجام پیک هستی ساعت چند است؟ ساعت بکشید و به دو صورت بنویسید.

۱۱) کامل کنید.

الف) ۴۷ میلی متر = سانتی متر و میلی متر

ب) ۱۲۶ سانتی متر = متر و سانتی متر

ج) ۵ سانتی متر و ۲ میلی متر همان میلی متر است.

د) ۹۰ میلی متر همان سانتی متر است.

۱۳) جاهای خالی را کامل کنید.

الف) نیم ساعت دقیقه یا تا یک ربع است.

ب) یک ساعت تا ۵ دقیقه یا تا ۱۰ دقیقه است.

ج) یک ساعت دقیقه یا تا یک ربع است.

۱) تفاوت لانه ی کبوتر با لانه ی موش را بنویسید.

.....

۲) چرا لاک پشت تخم هایش را زیر ماسه های کنار ساحل پنهان می کند؟

.....

۳) نشانه های رشد در انسان را بنویسید.

.....

۴) چرا باید ورزش کنیم؟

.....

۵) چه غذاهایی به بدن ضرر می رساند؟

.....

۶) بیش تر غذاها از کدام گیاهان به دست می آیند؟

الف) گندم و لوبیا ب) گندم و برنج ج) سیب و جو

۷) کدام یک به سالم ماندن دندان ها و استخوان های ما کمک می کند؟

الف) نان ب) نوشابه ج) شیر

۸) لانه ی کدام یک در زیر زمین نمی باشد؟

(ج) دارکوب

(ب) مار

(الف) خرگوش

۹) کدام جانور دوزیست است؟

(ج) خفاش

(ب) قورباغه

(الف) لاک پشت


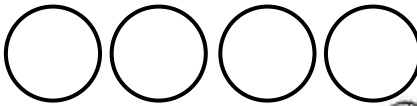
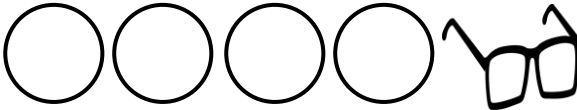
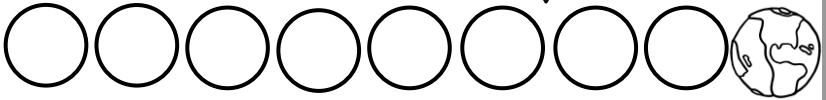
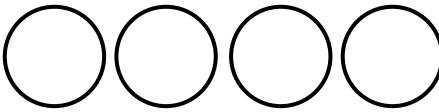

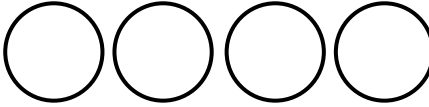

هدیه های آسمان

* سؤال هدیه های آسمانی طراحی کن و پاسخ بده.

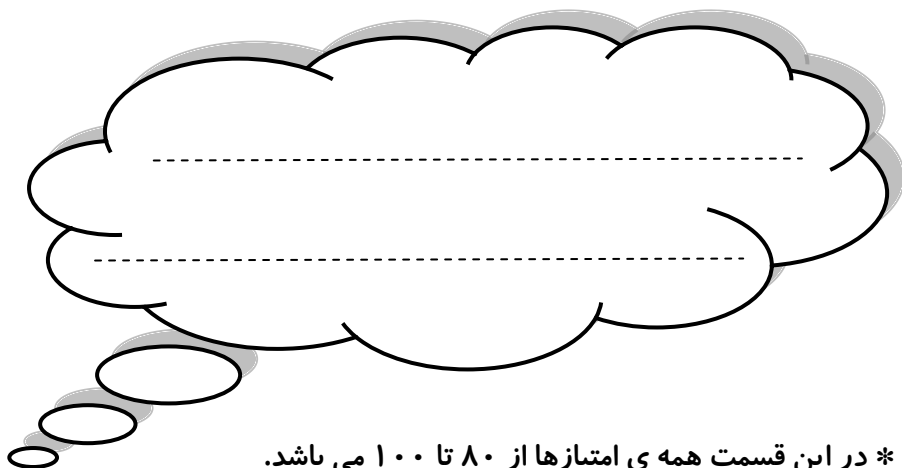
ای وای باز جدول

* ابتدا نام هر تصویر را در جدول بنویسید، سپس رمز جدول را بیابید.

رمز جدول



ولی محترم لطفاً نظر خود را در رابطه با پیک این هفته برایمان بنویسید.



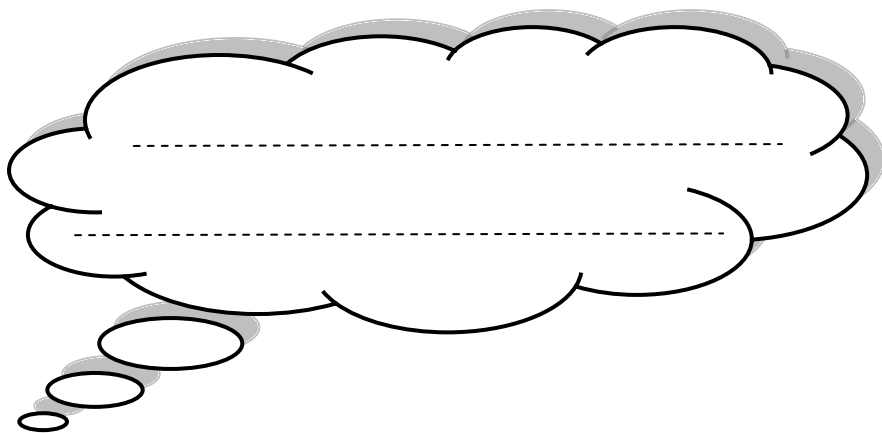
* در این قسمت همی امتیازها از ۸۰ تا ۱۰۰ می باشد.

- نازنینم، به زیبانویسی خود در پیک چه امتیازی می دهی؟

- مهربونم، در حل آن به خودت چه امتیازی می دهی؟

- عزیزدلم، مطالب را به خوبی فراگرفته ای؟

* نظرت درباره پیک:



افراد برتر هفته ...

