



پیک آدینه



شماره: هفته سوم اسفند

پایه: سوم

نام و نام خانوادگی:

شهادت حضرت فاطمه (س) تسلیت باد



دستان و پیش دستان غیر دولتی و احترام صدر

۱) به آخر هر کدام از کلمات زیر « ه » اضافه کنید و با کلمه ی جدید جمله بنویسید.

دندان ← :

پا ← :

دامن ← :

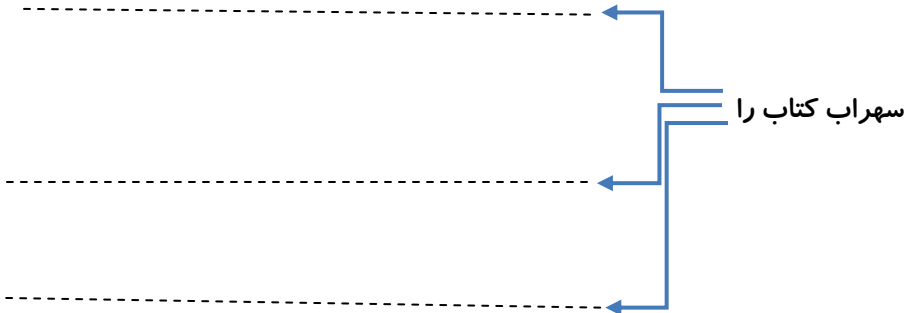
۲) جمله ها را کامل کنید .

کتاب مثل دوست است ، چون

دریا مثل است چون ،

خورشید مثل است، چون


۳) جمله ی زیر را به شکل ۳ ادامه بده ؟



۴) یک داستان بنویس که موضوع آن «سرگذشت یک جفت کفش» باشد.

۲

۵) جدول را کامل کن.



۱- هم معنی (وطن)

۲- خلیج همیشه.....

۳- نام یکی از شاعران بزرگ ایران

۴- پهن کرد

۵- هم خانواده ی کلمه ی (حافظ)

		ه			۱
			ا		۲
		د			۳
د					۴
ظ					۵

۱) مساحت زمین به شکل مستطیل ۷۲ متر مربع است اگر اندازه ی طول زمین

بزرگ ترین عدد یک رقمی باشد اندازه ی عرض را بدست آورید ؟

۲) اتاقی داریم به طول ۸ متر و عرض ۵ متر. یک فرش مربعی شکل به ضلع ۴ متر

در کف آن پهن کرده ایم. چه مساحتی از اتاق بدون فرش باقی مانده است؟

۳) عبارت های زیر را حل کنید.

$$(۸ \times ۹) = ۹ = \dots\dots$$

$$(۲ \times ۹) - (۳ \times ۶) = \dots\dots$$

$$(۹ - ۵) \div (۸ \div ۴) = \dots\dots$$

$$(۷ + ۱) \times (۴ + ۲) = \dots\dots$$

$$(۵۶ \div ۸) - (۱۴ \div ۲) = \dots\dots$$

$$(۱۱ \times ۴) - (۳ \times ۶) = \dots\dots$$

۴) با رقم های ۶ و ۹ و ۰ و ۴ بزرگ ترین و کوچک ترین عدد چهار رقمی را

بنویسید و مجموع آن ها را به دست آورید. (فرایندی)

بزرگ ترین:

کوچک ترین:

۵) باقی مانده ی تفریق زیر را به کمک رسم شکل به دست آورید.

$$\begin{array}{r} 3506 \\ - 2434 \\ \hline \end{array}$$

۱) دو ریشه ی خوراکی نام ببرید.

۲) جدول زیر را کامل کنید .

مثال	دانه	برگ	ساقه	ریشه
				راست
				افشان

۳) جاهای خالی را با کلمه ی مناسب پر کن.

الف) آب باران و برف وقتی به سنگ ها و خاک رس می رسد در همان جا جمع می شود و آب های را به وجود می آورد .

ب) هنگامی که نور به آینه می خورد، برمی گردد. به این عمل نور گفته می شود.

ج) وقتی که رضا در زمین فوتبال به توپ شوت می زند به آن وارد می کند.

د) اهرم فقط به شکل نیست و به کمک آن می توانیم چیزهای را جابه جا کنیم.

۱) شجره نامه چه چیزی را به ما نشان می دهد؟

الف) افراد خانواده را به ما نشان می دهد.

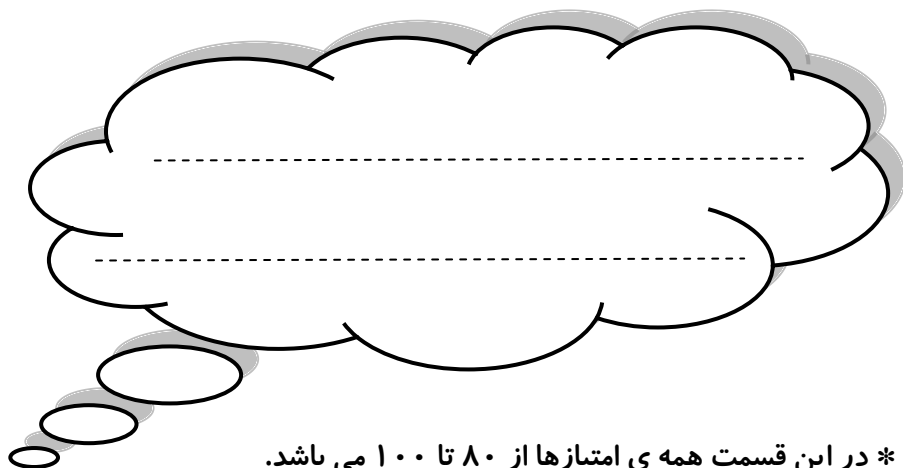
ب) افراد سالخورده ی فامیل را به ما نشان می دهد.

ج) نشان می دهد افراد یک خانواده چه نسبتی با هم دارند.

۲) جهت های اصلی را با رسم شکل نشان دهید.



ولی محترم لطفاً نظر خود را در رابطه با پیک این هفته برایمان بنویسید.




* در این قسمت همه ی امتیازها از ۸۰ تا ۱۰۰ می باشد.

- نازنینم، به زیبانویسی خود در پیک چه امتیازی می دهی؟

- مهربونم، در حل آن به خودت چه امتیازی می دهی؟

- عزیزدلم، مطالب را به خوبی فراگرفته ای؟

* نظرت درباره پیک:



افراد برتر هفته ...

