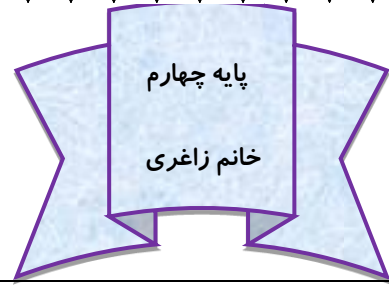


به نام یگانه آفریننده ی زیبایی ها

دستان غیر دولتی آرمان دانش



تاریخ: ۹۵/۱۱/۲۹

نام و نام خانوادگی:

۱. اعداد زیر را با تقریب های خواسته شده بنویسید.

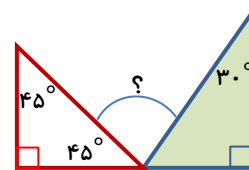
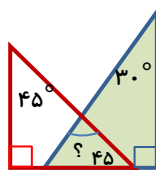
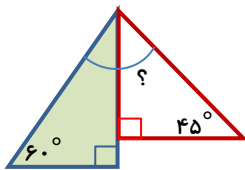
۸۹۲۳۶

- با تقریب دهگان →
- با تقریب صدگان →
- با تقریب هزارگان →
- با تقریب دهگان هزار →

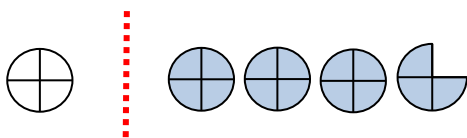
۹۸۵۴۷۶۲

- با تقریب دهگان →
- با تقریب صدگان →
- با تقریب هزارگان →
- با تقریب دهگان هزار →

۲. دو گونیا با زاویه های مختلف مشخص شده اند. با کنار هم قرار دادن این گونیا ها زاویه های مختلفی ایجاد می شود. اندازه زاویه هایی را که با علامت؟ مشخص شده را به دست آورید.



۳. شکل زیر چه عدد مخلوطی را نشان می دهد؟



۴. به اطراف خود در منزل نگاه کنید. وسایلی را پیدا کنید که زاویه های (راست - تند - باز) داشته باشند و لیست آن ها را در جدول زیر بنویسید.

نام وسیله	تعداد زاویه	نوع زاویه

۵. مشخص کنید در هر کدام از زمان های زیر، زاویه ی بین عقربه های ساعت شمار و دقیقه شمار چند درجه است؟


۱۲:۲۰'



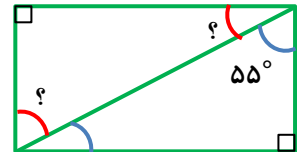
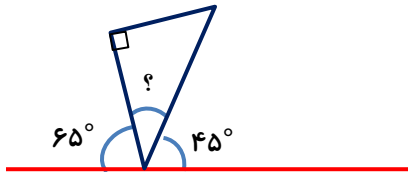
۶:۰۰



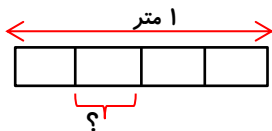
۳:۵۰'



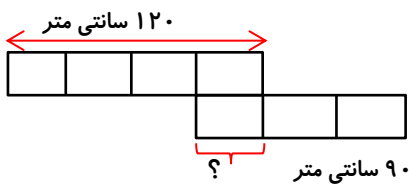
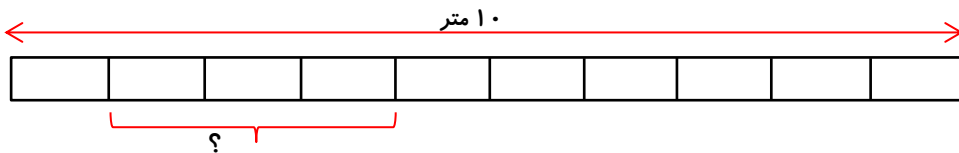
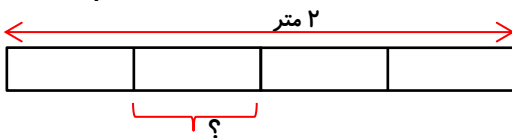
۶. در شکل زیر اندازه ی زاویه ای را که با علامت ؟ مشخص شده را پیدا کنید و بنویسید.



۷. در هر یک از شکل های زیر ، اندازه ی مشخص شده روی شکل برابر چند سانتی متر است؟



(هر شکل به قسمت های مساوی تقسیم شده است.)



۸. ضرب و تقسیم های زیر را انجام دهید.

$$\begin{array}{r} ۳۶ \\ \times ۵۲ \\ \hline \end{array}$$

$$\begin{array}{r} ۷۲۶ \\ \times ۵۴۴ \\ \hline \end{array}$$

$$\begin{array}{r} ۱۳۹ \\ \times ۱۲ \\ \hline \end{array}$$

$$\begin{array}{r} ۸۷۰۵ \\ \times ۳۶ \\ \hline \end{array}$$