

واحد کار ریاضیات بهمن ماه نام و نام خانوادگی : دبستان شهرستان



۱- جای خالی را کامل کنید .

۲ متر سانتی متر . ۹ متر سانتی متر . ۴ متر سانتی متر

۲- در جای خالی علامت $>$ $=$ $<$ قرار دهید .

۳ متر \bigcirc ۳۰۰ سانتی متر ۵۰۰ سانتی متر \bigcirc ۴ متر ۸ متر \bigcirc ۹ متر

۳- جوابها را پیدا کنید و با یک خط به هم وصل کنید .

۱۰۰ سانتی متر	۶ متر
۲۰۰ سانتی متر	۷ متر
۶۰۰ سانتی متر	۱ متر
۷۰۰ سانتی متر	۲ متر

۴- ۱- متر و ۲۰ سانتی متر سانتی متر . ۳ متر و ۷ سانتی متر سانتی متر

۵- متر و ۷۴ سانتی متر سانتی متر . ۲ متر و ۱۳ سانتی متر سانتی متر

۵- ۱۳۵- سانتی متر متر و سانتی متر .


۳۵۹ سانتی متر متر و سانتی متر .

۲۰۹ سانتی متر متر و سانتی متر .

۱۶۰ سانتی متر متر و سانتی متر .

۶- نصف ۱۰۰ سانتی متر چند سانتی متر است ؟

۷- خط های زیر را اندازه بگیرید .



۸- اندازه ی انگشت نشانه خودت سانتی متر . اندازه ی انگشت نشانه ی خواهرت سانتی متر

اندازه ی انگشت نشانه مادرت سانتی متر اندازه ی انگشت نشانه ی برادرت سانتی متر

اندازه ی انگشت نشانه پدرت سانتی متر اندازه ی انگشت نشانه ی دوستت سانتی متر

۹- با اندازه های بزرگ را می گیریم . \bigcirc خط کش \bigcirc متر

۱۰- یک متر سانتی متر

یک سانتی متر میلی متر

۱۱- ۲ سانتی متر میلی متر .

۴ سانتی متر میلی متر

۶ سانتی متر میلی متر

۹ سانتی متر میلی متر

۱۲- ۱۴ میلی متر سانتی متر و میلی متر .

۳۵ میلی متر سانتی متر و میلی متر

۷۹ میلی متر سانتی متر و میلی متر .

۵۶ میلی متر سانتی متر و میلی

متر

۱۳- در جای خالی علامت < > قرار دهید .

○ ۷۴ میلی متر ○ ۷ سانتی متر و ۹ میلی متر

○ ۳۸ میلی متر ○ ۳ سانتی متر و ۸ میلی متر

۱۴- مداد تراش علی ۵ سانتی متر و ۲ میلی متر است مداد تراش علی چند میلی متر است ؟


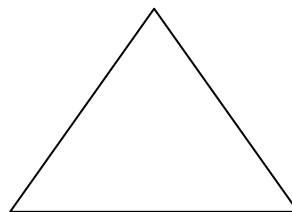
۱۵- اندازه ی مداد سبز ۴۸ میلی متر و اندازه ی مداد قرمز ۳۹ میلی متر اندازه ی کدام مداد بلند تر است ؟

چند میلی متر ؟

۱۶- با کمک متر اندازه های دو وسیله خانه ی خود را بگیرید و در جدول زیر بنویسید .

نام وسیله	نقاشی وسیله	اندازه وسیله

۱۷- شکل های زیر را اندازه بگیرید به دو صورت بنویسید . (میلی متر - سانتی متر)



۱۹- مربعی بکشید که اندازه ی ضلع های آن ۳۰ میلی متر باشد .

○ نظر معلم: خیلی خوب ○ خوب ○ قابل قبول ○ نزدیک به انتظار ○