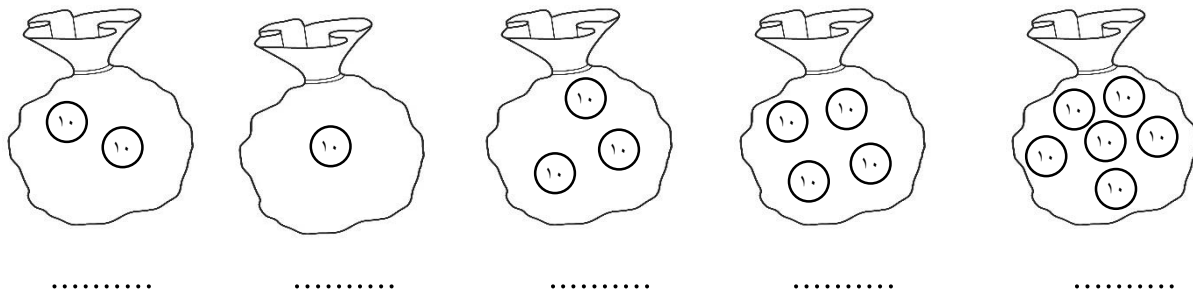


۱. عدد هر دسته را بنویس.



۲. بین عدد ها علامت <=> بگذار.

۹۹ ○ ۹۰

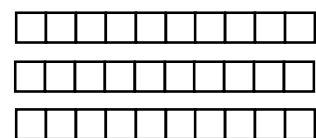
۸۰ ○ ۷۰

۲۰ ○ ۴۰

۳. عدد های زیر را ادامه بده.

۰ - ۵ - ۱۰ -      -      -      -      -      -      -  
 +۵      +۵  
 ۱۰ - ۲۰ - ۳۰ -      -      -      -      -      -      -  
 +۱۰      +۱۰

۴. جاهای خالی را به طور مناسب کامل کن.

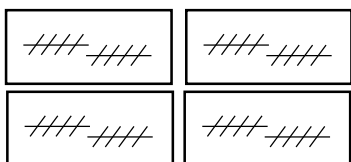


..... ده تایی و ..... یکی  
 می شود .....

ده تایی	یکی

با عدد: .....

با حروف: .....




..... ده تایی و ..... یکی  
 می شود .....

ده تایی	یکی

با عدد: .....

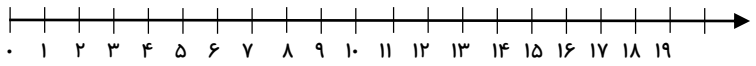
با حروف: .....



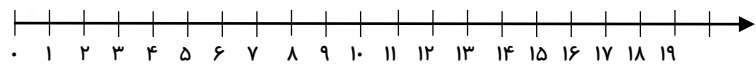
۵. جمع و تفریق زیر را روی محور نشان بده سپس جواب

آن ها را بنویس.

$10 + 5 + 5 = \dots\dots\dots$

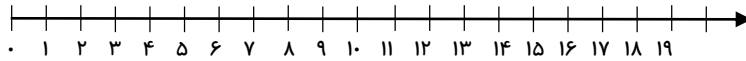


$20 - 7 = \dots\dots\dots$



۶. ماهی داخل تنگ آب بودند. آزاده ۶ ماهی دیگر داخل تنگ انداخت. حالا

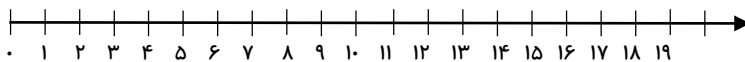
چند ماهی در تنگ است؟



حالا ..... ماهی در تنگ است.

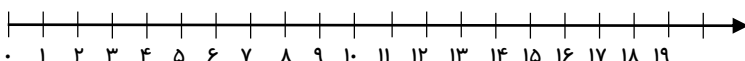
۷. ۱۴ میز در کلاس بود. آموزگار ۶ تا از میزها را به بیرون کلاس برد. حالا چند میز

در کلاس مانده است؟



حالا ..... میز در کلاس مانده است.

۸. ۱۲ شمع روشن بود. ۵ شمع خاموش شد. چند شمع روشن مانده است؟



حالا ..... شمع روشن مانده است.



فارسی

۱. در جاهای خالی یکی از ترکیب های ( خوا - خا ) را بنویس.

\* کرم ها در ..... ک زندگی می کنند. \* ما، در مدرسه یک کتاب ..... نه داریم.

\* من هر شب زود می ..... بم. \* آزاده ، ..... هر امین است.

۲. ترکیب کن و کلمه بساز و سپس یک جمله زیبا بساز.

خوا + هش = ..... ←

خوا + نده = ..... ←

خوا + بید = ..... ←

خوا + نا = ..... ←

۳. جمله بساز.

ژاکت : .....

ژله : .....

می خواند: .....

۴. هر کلمه چند صدا دارد؟ عدد آن را بنویس.

پارچه

ژله

آثیر

ژیناستیک



۵. انتخاب کن و کامل کن.

پدر ژاله لباس پوشید ..... به بازار برود. ( تا - از - برای )

من ..... خواهر کوچکم داستان گفتم. ( به - برای - از )

ما بازی را ..... تیم مقابل بردیم. ( به - تا - از )

۶. کلمه های زیر را در جدول پیدا کن و دور آن خط بکش.

جوراب - خواهر - پنیر - آشنا - آذیر - لامپ

خ	ی	م	ا	ی	ن
و	ر	ی	ژ	آ	ب
ا	ب	ا	ر	و	ج
ه	ر	ی	ن	پ	س
ر	چ	پ	م	ا	ل
ا	ن	ش	آ	ر	د

علوم

۷. چگونه می توان فهمید که در اطراف ما هوا وجود دارد. ( ۲ نمونه نقاشی کن )

۸. غواصان و فضانوردان در زیر آب یا در فضا چگونه نفس می کشند؟

.....

.....

