

به نام خدا

آزمون مداد کاغذی ریاضی پایه چهارم



نام و نام خانوادگی.....

نام آموزگار - سنجری

۱- توجه به عدد  $۸۰۶۷۸۹۴۰۱$  به سوال های زیر پاسخ دهید.

این عدد را به حروف بنویسید.....

این عد چند طبقه است؟..... ارزش مکانی رقم ۶ چیست ؟

رقم های طبقه ی هزارها را بنویسید . بزرگترین رقم در کدام طبقه قرار دارد ؟

۲- عددهای داده شده به کدام عدد نزدیک تر است ؟ دور آن را رنگ کنید.

$۸۵۱۰۰۰$	→	$۸۴۸۰۲۵$	→	$۸۴۸۱۰۰$
$۸۳۴۳۵۰$	→	$۸۳۵۹۲۱$	→	$۸۳۶۰۰۰$

۳- در جاهای خالی عدد مناسب بنویسید

۳۶۰ دقیقه یعنی ..... ساعت و ..... دقیقه

۴- در ساعت ۲ و ۱۵ دقیقه زاویه عقربه ساعت شمار و دقیق شمار از چه نوعی است؟ شکل

رابطه کنید

۵- ساعت رو به رو چه کسری را نشان می دهد. (به صورت عدد مخلوط بنویسید).



۶- حاصل ضرب های زیر را به دست آورید؟

$$۴۸ \times ۱۷ =$$

(روش مساحتی )

$$۷۰۵ \times ۴۶۵ =$$

(از راه جدول ارزش مکانی)

۷- حاصل ضرب تقریبی  $۵۲ \times ۶۷$  برابر با کدام گزینه است؟

۳۰۰۰ ○

۱۵۰۰ ○

۱۲۰۰ ○

۱۲۰۰ ○

۸- کدام یک از گزینه های زیر بر ۲ و ۳ و ۵ بخش پذیر می باشد؟

۸۲۰۱ ○

۷۵۳۰ ○

۳۳۵۰ ○

۳۴۲۱ ○

۹- عدد های زیر را با تقریب خواسته شده بنویسید

با تقریب رقم دهگان

با تقریب رقم صدگان

با تقریب هزارگان

۴۳۶ (      )

۵۴۲۸ (      )

۲۵۵۰ (      )

۱۰- جمع و تفریق ها را روی محور نشان دهید و حاصل را بنویسید



$$\frac{7}{8} \quad \boxed{-} \quad \frac{5}{8}$$

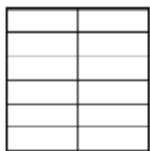


$$\frac{2}{6} \quad \boxed{+} \quad \frac{3}{6}$$

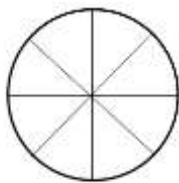
۱۱-  $\frac{1}{4}$  واحد بعد از عدد ۳ را روی محور نشان دهید.



۱۲. حاصل ضرب را به دست بیاورید و آن را روی شکل نشان دهید.

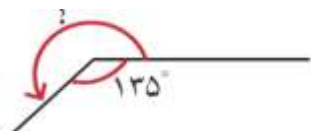


$$3 \times \frac{3}{3} = \text{---}$$



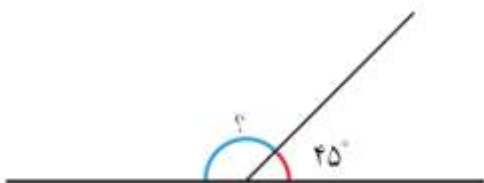
$$3 \times \frac{2}{8} = \text{---}$$

۱۳- در شکل زیر ، اندازه ی زاویه ای را که با علامت ( ؟ ) مشخص شده است ، پیدا کنید:



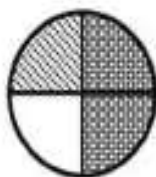
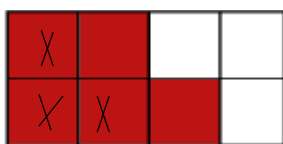
$$\square + 135^\circ = 360^\circ$$

$$\square + 45^\circ = 180^\circ$$



۱۴-- اندازه ی زاویه روبه رو را به دست آورید.

۱۵- برای هر شکل جمع یا تفریق بنویسید



۱۶- مادر علی از او خواست ۱۲ نان و ۲۸ تخم مرغ بخرد. اگر هر نان ۸۰۰ تومان و هر تخم مرغ ۱۲۰۰

تومان باشد. علی باید چند تومان با خود ببرد؟

۱۷- مهدی هر شب ۱۲ صفحه کتاب داستان مطالعه می کند. او یک کتاب ۸۶ صفحه ای را در چند شب مطالعه می کند؟

۱۸- یک هفته چند روز است؟ چهار هفته چند روز است؟ هر سال چند ماه است؟

۱۹- پدر برای خرید ۸ مداد، ۱۰۰ تومان داد و ۱۸ تومان پس گرفت. قیمت هر مداد چند تومان بوده؟

۲۰- سارا می خواهد ۳ دسته ی ۱۲ تایی گل را بین ۴ نفر تقسیم کند. به هر نفر چند گل باید بدهد؟

( فرزندانم موفقیت شما آرزوی من است.)

آموزگار شما : سنجری