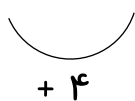




۱. الگو را ادامه بده و چهار تا چهار تا بشمار و بنویس.

۴ - ۸ - - - - -



۲. مربع شگفت انگیز را کامل کن.

۷		۶	۸	۲	۳	۵		۱
۴	۵	۳		۱	۷	۶		۲
۲	۸	۱	۴	۶			۷	۹
۱	۲		۵	۷	۸	۴	۳	۶
۳	۶	۵	۱		۲	۷	۹	۸
۸	۷	۴	۶	۳	۹	۱		۵
	۴	۲	۷	۸	۱	۹	۵	۳
۹	۳	۷		۵	۴	۸	۶	۱
۵	۱	۸	۳	۹	۶	۲	۴	

۳. با استفاده از دو رنگ جواب جمع ها را پیدا کن.

$5 + 6 = \dots\dots\dots$

$8 + 7 = \dots\dots\dots$

$9 + 6 = \dots\dots\dots$




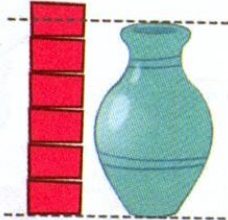


$$11 + 8 = \dots$$



$$8 + 9 = \dots$$


۴. با عدد مناسب جای خالی را کامل کن.



بلندی گلدان بین تا است.

بلندی نمکدان بین تا است.

۵. در جای خالی عدد مناسب بگذار.



۶. جمع و تفریق های زیر را روی محور نشان بده (هر عدد را با یک رنگ روی محور نشان بده).



$$15 - 6 =$$



$$8 + 3 + 2 =$$



$$13 - 4 =$$



$$4 + 6 + 5 =$$




فارسی

۱. نام سبزیجات و میوه‌های زیر را بنویس.



.....

۲. برای این تصویر ۴ جمله بنویس.



- ۱-
- ۲-
- ۳-
- ۴-

۳. مانند نمونه به هر کلمه (ها) اضافه کن و برای آن جمله بساز.

- ستاره + ها =
- چتر + ها =
- قارچ + ها =
- پیچ + ها =

۴. جمله‌ها را مانند نمونه کامل کن.

آن‌ها آش

خرگوش هویج می خورد.

ما موز

تو گوجه



۵. خانه ی قارچی را کامل کن.

۱- وسیله ای که در باران روی سرمان می گیریم.

۲- هر وسیله ای که از جنس چوب است.


۳- وسیله ای برای پوست کندن میوه.

۴- وسیله ای برای بستن پیچ.

۵- عدد ۴۰ به حروف.

۶- مخالف بزرگ.

۷- نام شکل جدول.



۶. با استفاده از کلماتی که یاد گرفتی جمله ی زیر را ادامه بده. (حداقل ۵ جمله)

دیروز از کنار گل فروشی رد شدم

.....

.....

.....

