



پیک آدینه



شماره: هفته چهارم دی

پایه: چهارم

نام و نام خانوادگی:

ولادت

امام حسن عسگری (ع)

مبارک



دستان و پیش دستان غیر دولتی و احتراماً صدرا

۱) جاهای خالی را با واژه های مناسب کامل کنید.

الف) پایان هر جمله، کلمه ای وجود دارد که آن جمله را کامل

می کند به این کلمه می گویند.

ب) باغچه بان مرد بزرگی بود که با دست خالی با اعتماد به خود

کارهای بزرگی انجام داد.

ج) مکتب خانه جایی بود که همه میز می نشستند و درس

می خواندند.

.....

.....

.....

۵) به جای کلمه های داخل کمانک کلمه های هم معنی بنویسید.

- آن وقت ها هنوز مدرسه های امروزی (دایر) نشده بود.

- حرفه ی بنّایی (طبع پرشور) و ذهن جویای مرا راضی نمی کرد.

- روز و شب های بسیاری را در کار (ابداع) الفبای ویژه ناشنوایان گذراندم.

.....

۱) تقسیم های زیر را انجام دهید و با توجه به باقی مانده، جمله ی زیر آن را کامل کنید.

$$\begin{array}{r|l} 75 & 8 \\ - & \\ \hline & \end{array}$$

$$\begin{array}{r|l} 95 & 9 \\ - & \\ \hline & \end{array}$$

۷۵ بر ۸ بخش پذیر

۹۵ بر ۹ بخش پذیر

۲) تقسیم های زیر را از طریق شکلی انجام داده و رابطه ی درستی تقسیم را

بنویسید.

$$\begin{array}{r|l} 85 & 2 \\ & \\ \hline & \end{array}$$

$$\begin{array}{r|l} 63 & 4 \\ & \\ \hline & \end{array}$$

۳) می خواهیم ۷۶ مداد را به طور مساوی بین ۳ نفر تقسیم کنیم. به هر کدام مداد می رسد و مداد باقی می ماند.

$$\begin{array}{r} 76 \quad | \quad 3 \\ \hline \end{array}$$

۴) تقسیم های زیر را انجام دهید.

$$\begin{array}{r} 37 \quad | \quad 4 \\ \hline \end{array}$$

$$\begin{array}{r} 136 \quad | \quad 5 \\ \hline \end{array}$$

$$\begin{array}{r} 648 \quad | \quad 6 \\ \hline \end{array}$$

$$\begin{array}{r} 845 \quad | \quad 2 \\ \hline \end{array}$$

۵) یک مسئله بنویسید که پاسخ حاصل آن $۹۵۴ \div ۵$ باشد و آن را حل کنید.

علوم

۱) به سؤالات زیر پاسخ دهید.

* آیا منظومه ی شمسی در کهکشان راه شیری قرار دارد؟

* منظومه ی شمسی را همراه با سیاراتی که به دور ستاره ی همان منظومه (خورشید) می چرخند را به ترتیب بنویسید.


* زمینی که ما در آن زندگی می کنیم چند نوع چرخش دارد و هر کدام از این چرخش ها را بنویسید.

۲) از چرخش زمین به دور خود به وجود می آید و مدت زمان این چرخش می باشد و از چرخش زمین به دور خورشید به وجود می آید و مدت زمان این چرخش می باشد.

۳) در مورد سیاره ی زهره (ناهید) هر چه می دانید بنویسید.



۱) امام جواد لقب کدام امام می باشد و این امام فرزند چه کسی است و در چند سالگی به شهادت رسید و قبر مطهر این امام در کجاست؟



۱) چرا سرزمین ما ایران نام گرفت؟

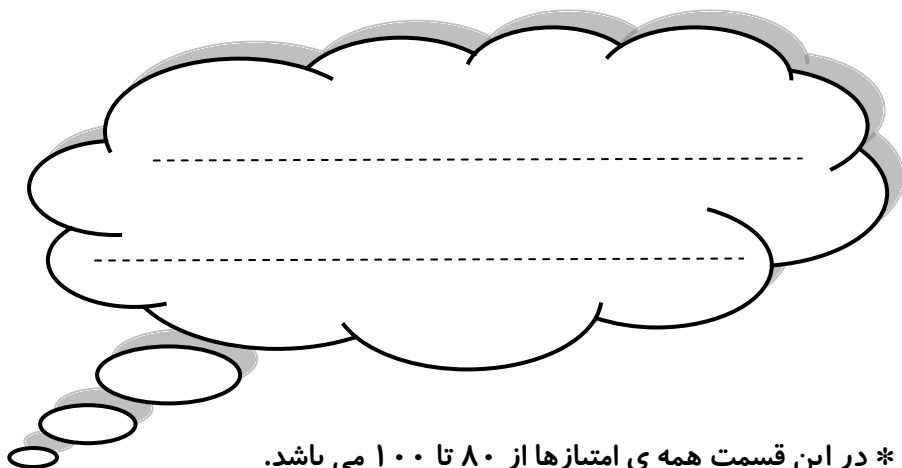
۲) آریایی یعنی چه؟ و آریایی ها به و و تقسیم شدند.

۳) مادها در سمت ایران و پارت ها در سمت ایران و پارس ها در سمت ایران ساکن شدند.

۴) چرا مادها از آشوری ها شکست خوردند و سرانجام توانستند بر آشوری ها پیروز شوند با رهبری چه کسی؟



ولی محترم لطفاً نظر خود را در رابطه با پیک این هفته برایمان بنویسید.



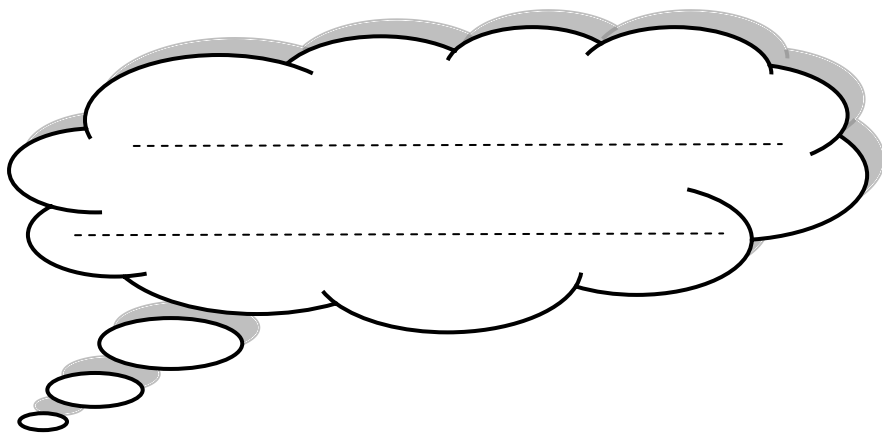
* در این قسمت همه ی امتیازها از ۸۰ تا ۱۰۰ می باشد.

- نازنینم، به زیبانویسی خود در پیک چه امتیازی می دهی؟

- مهربونم، در حل آن به خودت چه امتیازی می دهی؟

- عزیزدلم، مطالب را به خوبی فراگرفته ای؟

* نظرت درباره پیک:



افراد برتر هفته ...

