



پیک آدینه



شماره: هفته سوم دی

پایه: پنجم

نام و نام خانوادگی:




دستان و پیش دستان غیر دولتی و احترام صدر

۱) با توجه به مطلب درس دو سؤال به دلخواه خودتان طرح کنید و پاسخ دهید.

سؤال ۱: .....

سؤال ۲: .....

۲) دو واژه هم آوا و دو واژه مترادف بنویسید.



(۱) جاهای خالی را با استفاده از کلمات یا اعداد مناسب کامل کنید.

(الف) نمایش عدد مخلوط  $4\frac{9}{6}$  به صورت کسر، برابر ..... است.

(ب) طول یک راه ۲۱۰ کیلومتر است دو سوم این مسیر ..... کیلومتر است.

(ج) ۱۸ سیب را بین ساناز و مینا به نسبت ۴ به ۵ تقسیم کردیم سهم ساناز ..... است.

(د) ۲۰٪ عدد ۴۵۰ برابر ..... است.

(۲) نسبت اضلاع مثلثی ۴، ۵ و ۷ است. اگر تفاضل ضلع بزرگ و کوچک ۳۰ سانتی متر باشد محیط این مثلث را به دست آورید.

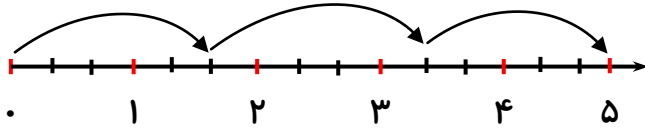
(۳) سمیرا برای خرید یک کیف ۱۳۰۰۰۰ تومانی ۱۰۲۷۰۰ تومان پرداخت کرد. فروشنده چند درصد تخفیف داده است؟

۴) حاصل عبارت های زیر را به دست آورید.

الف)  $\frac{45 \times 28}{14 \times 9} =$

ب)  $\frac{36}{54} = \frac{82}{\square}$

۵) محور زیر نشان دهنده ی کدام گزینه می باشد؟



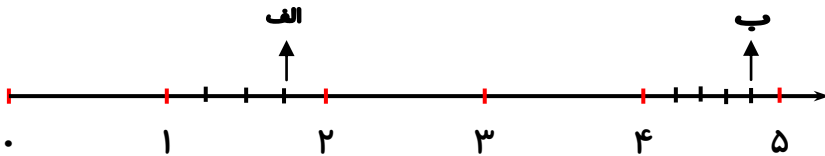
الف)  $3 \times 1 \frac{2}{3}$

ب)  $5 \div 1 \frac{2}{3}$

ج)  $1 \frac{2}{3} \div 5$

د)  $15 \div 5$

۶) اختلاف دو نقطه ی «الف» و «ب» را به دست آورید.



۱) پاسخ درست را با علامت «✓» مشخص نمایید.

- بیشترین اطلاعاتی که ما از دنیای اطراف خود به دست می آوریم، از طریق کدام حس است؟

- الف) چشم       ب) بینایی       ج) گوش       د) شنوایی

- در روشنایی مردمک چشم شما .....

- الف) تغییر نمی کند       ب) تنگ تر می شود

- ج) گشادتر می شود       د) بسته می شود

۲) در جاهای خالی کلمه ی مناسب بنویسید.

\* اولین لایه از چشم که نور به آن برخورد می کند ..... نام دارد.

\* دایره ی رنگی چشم، ..... نام دارد.

\* همه ی اندام های حسی ما، پیام خود را به ..... می فرستند.

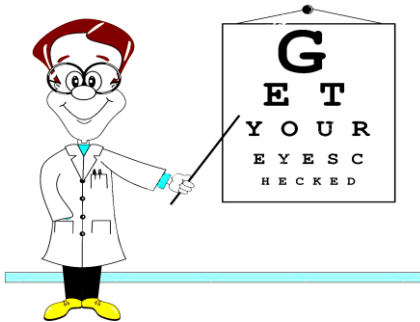
۳) فقط نام ببرید.

• بخش هایی از چشم که در آینه دیده می شوند عبارتند از:

(الف) (ب)

• چشم ما به طور طبیعی چگونه محافظت می شود؟

• برای داشتن چشمانی سالم، چه نکاتی را باید رعایت کنیم؟



۱) نام یکی از شاگردان امام هادی (ع) را بنویسید.

۲) امام هادی (ع) در زمان کدام یک از خلفای عباسی زندگی می کردند؟





۱) بر طبق قانون اساسی، رهبری جامعه اسلامی برعهده ی کیست؟

۲) گزینه ی صحیح را با علامت «X» مشخص نمایید.

- کدام مورد از وظایف دولت نیست؟

- الف) اجرای قوانین       ب) رسیدگی به اختلافات
- ج) تأمین وسایل آسایش و رفاه مردم       د) پیشرفت کشور

- نظارت بر اجرای درست قوانین از کارهای کدام قوه است؟

- الف) قوه مجریه       ب) دولت
- ج) قوه قضائیه       د) قوه مقننه

۳) کامل کنید.

\* قوه مجریه همان ..... است.


\* مقام ..... بر همه ی فعالیت های سه قوه مقننه، مجریه و قضائیه

..... دارد و آن ها را هدایت می کند.

۴) حکومت سلطنت پهلوی در چه سالی و به رهبری چه کسی سرنگون شد؟



ولی محترم لطفاً نظر خود را در رابطه با پیک این هفته برایمان بنویسید.




خودارزیابی:

دختر گلم به نظر خودت این پیک را چگونه انجام دادی؟

خیلی خوب  خوب  قابل قبول  نیاز به آموزش و تلاش بیشتر

من این پیک را در مدت ----- انجام دادم.

نظر من:



# افراد برتر هفته ...

