



پیک آدینه



شماره: هفته چهارم دی

پایه: ششم

نام و نام خانوادگی:



ولادت

امام حسن عسگری (ع)


مبارک

دستان و پیش دستان غیر دولتی و احترام صدررا

۱) دو شاگرد علامه دهخدا را نام ببرید.

۲) لغت نامه ها چه کمکی می توانند به ما داشته باشند؟

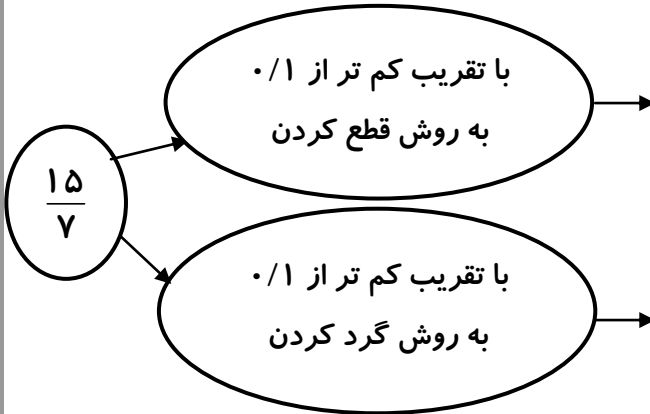
۳) دایرة المعارف ها چه کتاب هایی هستند؟



۱) جدول زیر را کامل کنید.

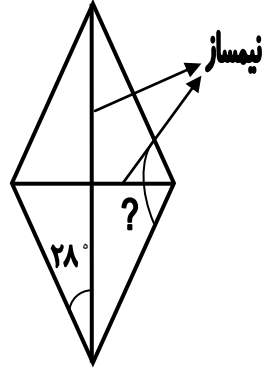
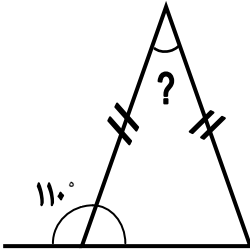
گردشده	قطع شده	با تقریب کمتر از	عدد
۳۰			۲۷/۳۶
	۲۰۵۰		۲۰۵۵
		۰/۱	۳۲۰/۴۷
۱۰۰			۷۸/۰۰۳

۲) مقدارهای زیر را با تقریب های گفته شده به دست آورید و روی محور نشان دهید.



۳) دو زاویه متمم هستند. اگر نسبت اولی به دومی ۵ به ۷ باشد زاویه ی بزرگ تر چند درجه است؟

۴) زاویه های خواسته شده در شکل های زیر را حساب کنید.



۵) حاصل عبارت زیر را به دست آورید.

$$5 \frac{1}{3} + \frac{2 \frac{1}{3} \times 2 \frac{1}{3}}{1 \frac{2}{4} \div 3 \frac{4}{8}} =$$

۶) شکل زیر چه حاصل ضربی را نشان می دهد؟ عوامل ضرب و حاصل را بنویسید.

	۱	۱	۱	$\frac{3}{4}$
۱				
۱				
$1 - \frac{1}{2}$				

۱) مهدی به کمک آهن ربا گیره را از زمین بلند می کند.

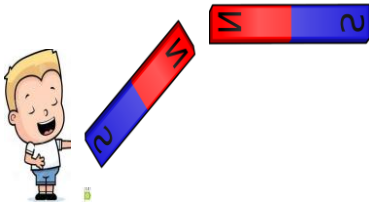
الف) نام نیرویی که گیره را بلند می کند، چیست؟

ب) این نیرو بین کدام دو جسم است؟

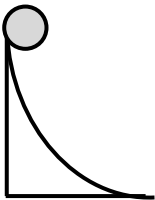
پ) جهت نیرویی که آهن ربا به گیره ی کاغذ وارد می کند را با یک پیکان رسم کنید.

د) مهدی آهن ربای خود را به آهن ربای دیگر نزدیک می کند به طوری که دو قطب هم نام در مقابل هم باشند. جهت نیرویی که هر آهن ربا به آهن ربای دیگر وارد می کند را با پیکان روی هر کدام رسم کنید.

گیره



۲) مریم گلوله ای را از بالای مسیر مطابق شکل رها می کند و گلوله پایین می غلتد.

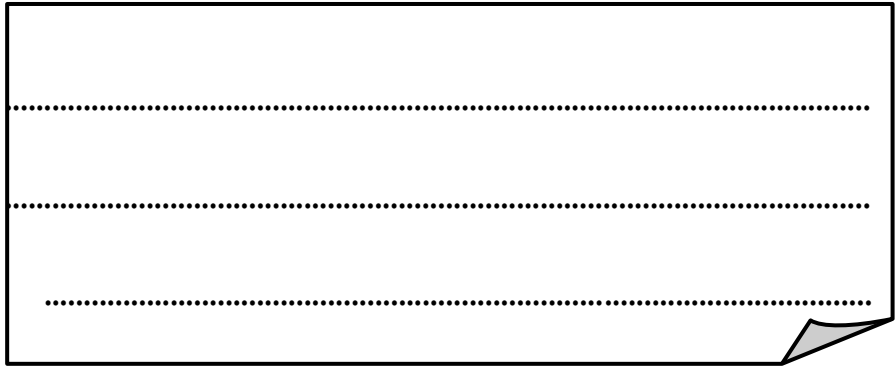


الف) نام نیرویی که گلوله را حرکت می دهد؟

ب) چه نیرویی در خلاف جهت بر گلوله وارد می شود؟

۳) در چه صورتی نیروها همدیگر را خنثی می کنند؟

۴) ویژگی فلزات را بنویسید.



A large rectangular box with a black border and a folded bottom-right corner, containing three horizontal dotted lines for writing.

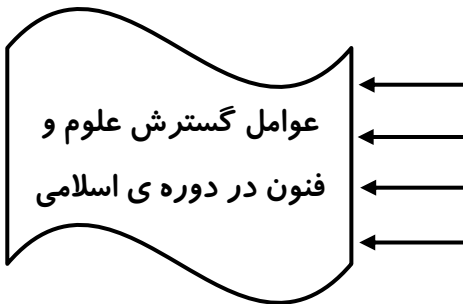
هدیه های آسمان

۱) نقش عالمان پرهیزکار در اداره ی امور جامعه چه می باشد؟

۲) چرا حضرت مهدی (ع) در غیبت به سر می برند؟

مطالعات اجتماعی

۱) نمودار علل گسترش علوم و فنون در دوره ی اسلامی را کامل کنید.



۲) دلایل گسترش هنر و معماری در دوره ی صفویه را بنویسید.

۳) شما وقتی می خواهید یک برنامه ی متعادل برای زندگی روزانه ی خود تنظیم

کنید، چه مواردی را به اندازه ی کافی در آن می گنجانید؟ (۴مورد)

۴) سال شهادت امام حسین (ع) ۶۱ هجری و سال حمله ی مغول به ایران ۶۱۶

هجری را روی خط زمان نشان داده و بنویسید هر کدام از این وقایع در چه قرنی


و در کدام نیمه اتفاق افتاده است؟

--	--	--	--	--	--	--	--

• ۱۰۰ ۲۰۰ ۳۰۰ ۴۰۰ ۵۰۰ ۶۰۰ ۷۰۰

۵) یک سؤال را با جواب طراحی کنید.

ولی محترم لطفاً نظر خود را در رابطه با پیک این هفته برایمان بنویسید.



خودارزیابی:


دختر گلم به نظر خودت این پیک را چگونه انجام دادی؟

خوب

خیلی خوب

من این پیک را در مدت ----- انجام دادم.

نظر من:



افراد برتر هفته ...

