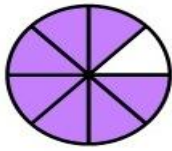
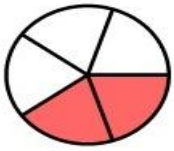


۷. برای شکل‌ها کسر مناسب بنویس و برای کسرهای شکل مناسب بکشید.



$$\frac{3}{6}$$

$$\frac{1}{3}$$

۳.۸. جاهای خالی را با عدد مناسب و شکل‌ها را با رنگ کامل کنید.

<p>..... واحد و واحد واحد</p>	<p>..... واحد و واحد واحد</p>
<p>۲ واحد و $\frac{4}{6}$ واحد</p>	<p>$\frac{2}{3}$ واحد بعد از عدد ۳</p>

۹. امیر $\frac{3}{4}$ و رضا $\frac{2}{4}$ پولشان را صدقه دادند. با کشیدن شکل، دو کسر را مقایسه کنید.

$$\frac{3}{4} \bigcirc \frac{2}{4}$$

۱۰. جاهای خالی را کامل کنید.

شکل	جمع	ضرب	توضیح عبارت ضرب
		$2 \times 6 =$...دسته‌ی ...تایی می‌شود...
	$7 + 7 + 7 + 7 =$...دسته‌ی ...تایی می‌شود...

۱۱. زینب ۹ سال و پدرش ۴۵ ساله است. سن پدر زینب چند برابر سن زینب است؟

۱۲. برای شکل زیر دو ضرب و دو تقسیم بنویس.



$$\dots \times \dots = \dots$$

$$\dots \div \dots = \dots$$

$$\dots \times \dots = \dots$$

$$\dots \div \dots = \dots$$

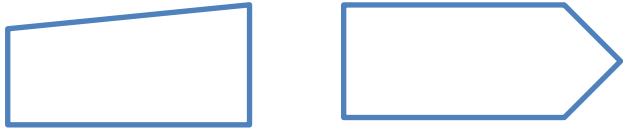
۱۳. در جای خالی عدد های مناسب بنویس.

$$(5+3) \times (1+5) = \dots \times \dots = \dots$$

$$(6 \times 4) - (2 \times 7) = \dots - \dots = \dots$$

$$(2 \times 3) + (1 \times 5) = \dots + \dots = \dots$$

۱۴. در شکل های مقابل زاویه راست را رنگ کن.



۱۴. دایره ای به شعاع ۲ سانتی متر رسم کرده ، شعاع و قطر آن را مشخص کن.

۱۵. در شکل های زیر خطوط موازی را با یک رنگ مشخص کن.



بازخورد آموزگار:



خسته نباشی