
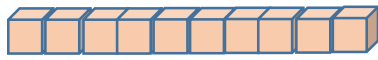
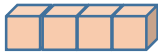




۱- اگر  نشان دهنده ی عدد ۱۰۰۰ باشد عددی را که شکل روبرو نشان می دهد را بنویسید .



به رقم :



به حروف :

۲- عددی را که جدول نشان می دهد به رقم و حروف بنویس .

هزار			صدگان		
یکان	دهگان	صدگان	یکان	دهگان	صدگان
۰	۰	۵	۰	۲	۷

به رقم :

به حروف :



۳- عدد ۸۴۶۷۲۳۴ چند رقمی است ؟

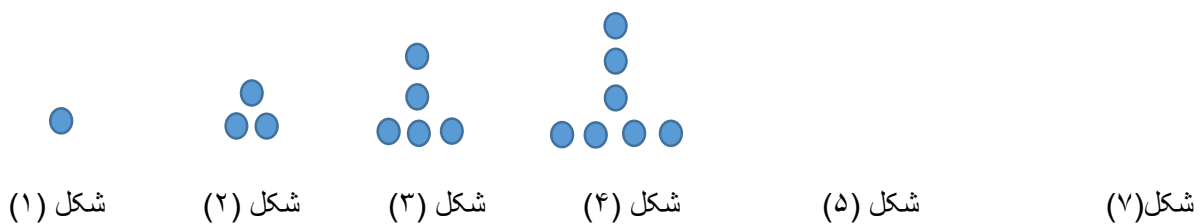
صدگان هزار آن چند است ؟ ارزش مکانی رقم ۷ را بنویسید

به حروف بنویس

۴- دخترم توضیح بده ماشین روبرو چه کاری انجام می دهد ؟


هر عددی که


۵- به الگوی زیر توجه کن . شکل پنجم و هفتم از چند دایره درست شده اند؟ الگوی شکل را بکش .



۶- رقم های طبقه ی یکی (یکان ، دهگان و صدگان) عددهای زیر را حذف کنید و به جای آن صفر بگذارید و آن ها را به رقم و حروف بنویسید.

۸۵۷۲۳۵	رقم	۴۳۸۲۵۹۱	رقم
↙ ↘	حروف	↙ ↘	حروف




۷- گسترده ی عدد زیر را بنویسید .

۶۰۵۰۳۰ =

۷۲۰۰۲۷ =

۸- کوچک ترین عدد پنج رقمی را بدون تکرار رقم ها را برای من بنویس .



۹- ضرب های زیر را ذهنی حساب کنید .

$۳۰۰۰۰ \times ۴ =$

$۳۰۰ \times ۲۰۰۰ =$

۱۰- هر عددی را که هر عبارت نشان می دهد در جدول ارزش مکانی قرار دهید .

الف) $۷۰۰۰۰۰ + ۴۰۰۰۰ + ۵۰۰ + ۳۰ + ۵$

ب) ۵ تا اسکناس ده هزار تومانی + ۴ تا اسکناس هزار تومانی + ۷ تا سکه صدتومانی + ۲ تا سکه ده تومانی

هزارها						الف
صدگان	دهگان	یکان	صدگان	دهگان	یکان	
						ب



آموزگار : خانم نجفی