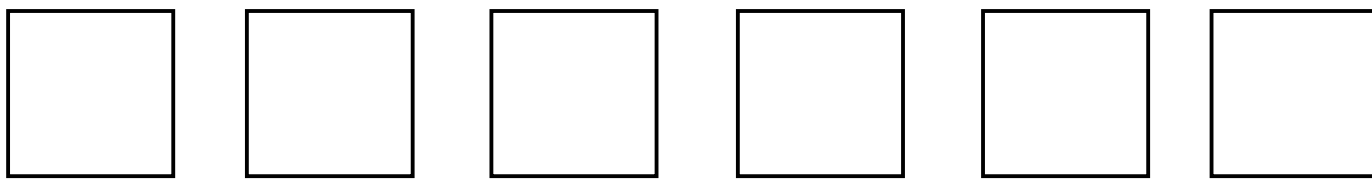





به نام خدا

آزمون ریاضی پایه ششم ابتدایی - مهر ۹۱ شماره یک نام و نام خانوادگی _____

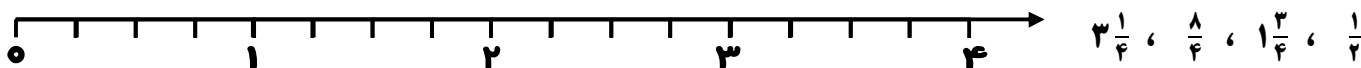
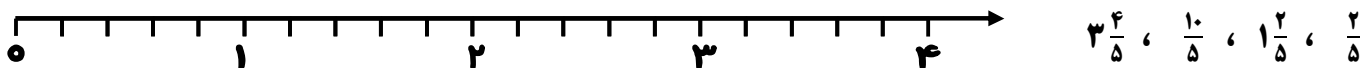
۱- هر یک از شکل های زیر را به ۲ قسمت مساوی تقسیم کنید (به شرطی که شبیه هم نباشند) ۳نمره



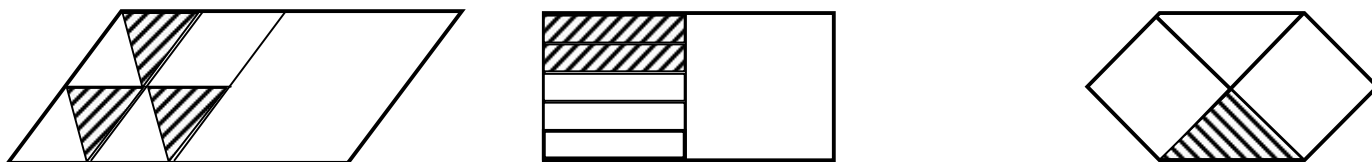
۲- با توجه به کسر داده شده ، شکل را تقسیم بندی و رنگ کنید. (۳ نمره)



۳- عددهای زیر را روی محور نشان دهید. (۴نمره)



۴- شکل های زیر چه کسری را نشان می دهند؟ (۳نمره)



۵- یک کشاورز شهرستان گرمی می خواهد زکات محصول گندم خود را بدهد. محصول او ۶/۵ تن است. زکات (۱/۱۰) محصول گندم او چقدر می شود؟ (۲نمره)

۶- الگوی عددی زیر را ادامه دهید. (۴ مورد) (۲نمره)

$$\frac{1}{4}, \frac{4}{9}, \frac{7}{14}, \frac{10}{19}, \frac{13}{24}$$

۷- در مصر باستان به ۶ کارگر برای دستمزد ۳۴ نان داده می شد به هر نفر چه کسری از نان می رسد؟ (۳ نمره)

به هر نفر چند نان و چه کسری از یک نان می رسد؟ نان و از یک نان