

۱- جاهای خالی را پر کنید.

الف - ۳,۳۰,۸۰۰ از تا یک میلیون و تا یک هزار و ۸ تا تشکیل شده است .

ب - ۶۰,۰۰۰ از ۶ تا و یا از ۶ تا و یا از تا یک هزار تشکیل شده است.

ج - ۲۵ تا ۱۰ هزارتایی و ۱۶ تا صدتایی می شود :

د - ۹ تا صدتایی و ۱۰۰ تا هزارتایی می شود :

ه - ۱۰ تا ۱۰۰ تایی چک پول ۵۰۰,۰۰۰ ریالی می شود ریال یا تومان .

و - ۸۰ دسته ۵۰۰,۰۰۰ ریالی چک پول می شود ریال یا تومان .

۲- حاصل ضرب و تقسیم های زیر چند است ؟

$$\begin{array}{r} 9000 \\ | \\ 400 \end{array}$$

$$\begin{array}{r} 1000 \\ | \\ 300 \end{array}$$

$$\begin{array}{r} 70080 \\ \times 500 \\ \hline \end{array}$$

$$9000 \times 200 =$$

۳- عددهای خواسته شده را بنویسید .

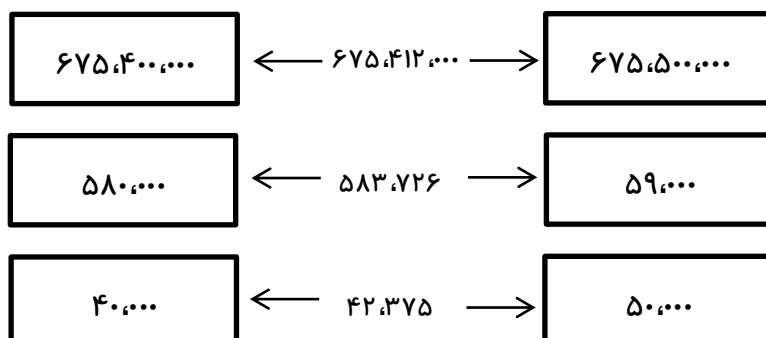
الف - عددی که از ۸ تا یک میلیارد و ۵ تا ده میلیون و ۷ تا هزار تایی ساخته شده است .

عدد :

ب - عددی که از ۶ تا ده میلیارد و ۶ تا یکی ساخته شده است .

عدد :


۴- هر کدام از اعداد زیر به کدام یک از اعداد داخل مستطیل ها نزدیک تر است ؟



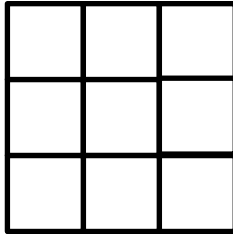
۹- جدول زیر را بر اساس الگو کامل کنید . شکل ۳۷ ام از چند مربع تشکیل شده است ؟



(۱)



(۲)



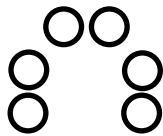
(۳)

شماره شکل	۱	۲	۳	۴	۵	۶
تعداد مربع کوچک						

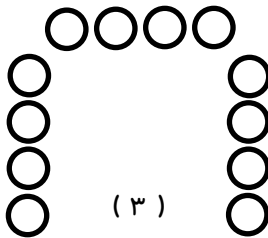
۱۰- شکل چهارم را رسم کنید ، شکل ۱۹۹ چند دایره دارد ؟



(۱)



(۲)



(۳)

۱۱- در الگوی زیر شکل شماره ۷۵ از چند مربع کوچک درست شده است ؟

