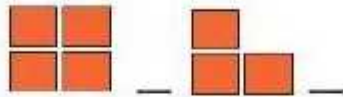
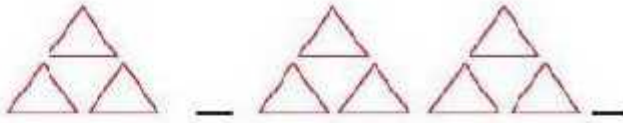
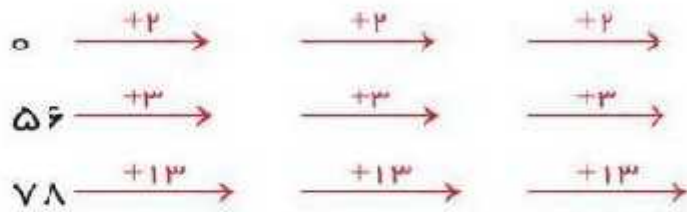


Y, Y È [æ / { Y æ È]


۱- الگوی شکلی زیر را ادامه دهید. (۲ مرحله)



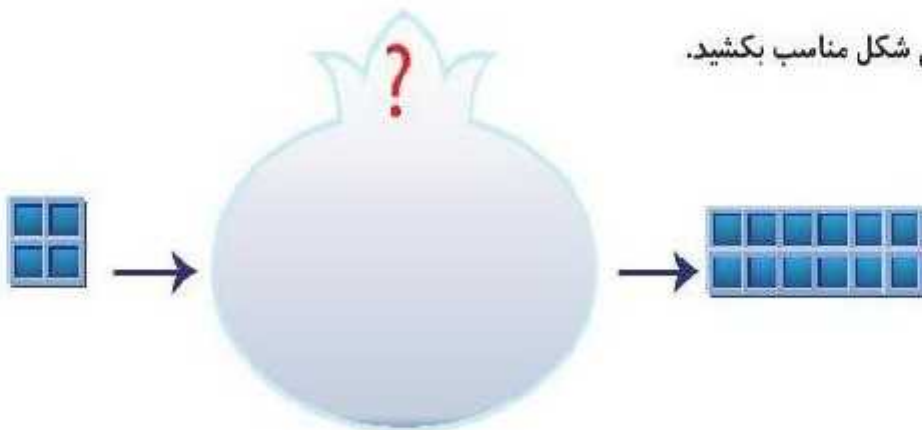
۲- الگوی عددی زیر را ادامه دهید.



۳- چه رابطه ای بین الگوی عددی و شکلی زیر وجود دارد.



۴- در جای خالی شکل مناسب بکشید.



۵- در جای خالی عدد مناسب بنویسید.

۵-۱۰-.....-۲۰-.....-۳۰



۷-۱۴-.....-.....-۴۹

۲۳۱-.....-۴۳۱-۵۳۱-.....

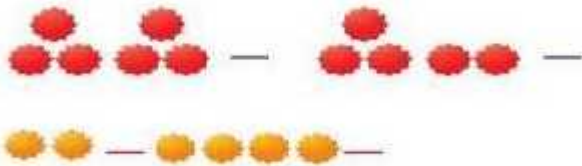
- ۱۶ و ۸ و و
 ۳ و ۱۰ و و
 ۱۱۰ و ۲۱۰ و و
 ۰ و ۹ و ۱۸ و و
 ۰ و ۳ و ۷ و ۱۲ و و
 ۵۶ و ۹۶ و و و و

- ۷- در یک کلاس سه ردیف نیمکت و در هر ردیف ۶ نیمکت وجود دارد. (از طریق کشیدن جدول نظام دار)
 الف) در دو ردیف چند نیمکت وجود دارد؟
 ب) در سه ردیف چند نیمکت وجود دارد؟

۸- برای الگوی عددی زیر الگوی شکلی مناسب بکشید.



۹- برای الگوی شکلی زیر الگوی عددی مناسب بنویسید.



۱۰- بستنی فروشی هر بستنی را ۵۵۰ تومان می‌خرد و ۶۰۰ تومان می‌فروشد. (از طریق کشیدن جدول نظام دار)

الف) از فروش هر بستنی چقدر سود می‌کند؟

ب) فروش هر سه بستنی چقدر سود برایش دارد؟

ج) اگر یک بستنی آن آب شود چند تا بستنی باید بفروشد تا ضرر آن بستنی جبران شود؟



سنجش اولیاء

خیلی خوب	خوب	قابل قبول	باز به تلاش بیشتر