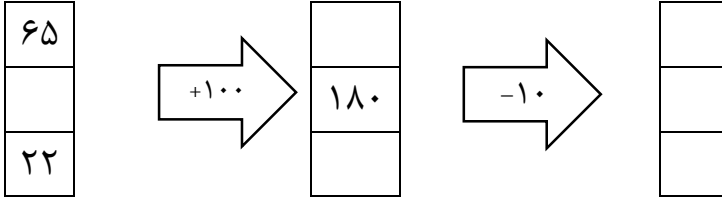




۱ الگوها را ادامه دهید.

- - ۱۳ - ۲۶ - ۳۹ - - - - -
- - ۸ - ۱۶ - ۲۴ - - - - -

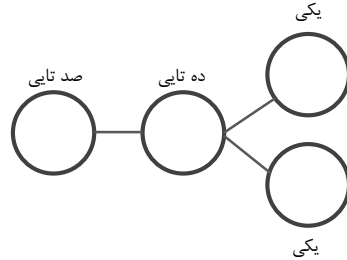
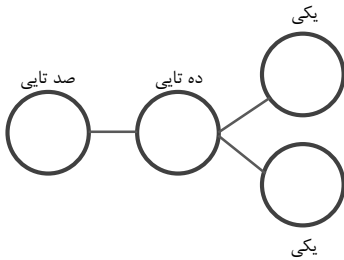
۲ جاهای خالی را پر کنید.



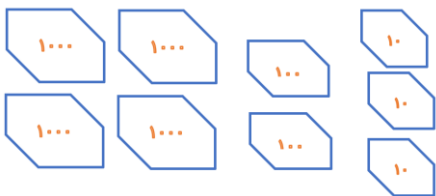
۳ خط تقارن شکل های زیر را رسم کنید.



۴ عدد های سه رقمی را که رقم یکان آن ها ۷ و ۵ و رقم دهگان آن ها ۹ و رقم صدگان آن ها ۴ یا ۸ باشد در جاهای خالی بنویسید.



۵ عددی که ساخته اید با عدد و حروف بنویسید.




هزارگان	صدگان	دهگان	یکان

با عدد -----
با حروف -----

۶ باز شده ی هر عدد را بنویسید.

۹۳۲۰ =

۴۰۲۵ =

۷	<p>➤ ۳۲۵ سانتی متر ----- متر و ----- سانتی متر است.</p> <p>➤ ----- سانتی متر ۲ متر و ۲۷ سانتی متر است.</p>
۸	<p>شکل روبرو چند زاویه دارد؟</p> <p>زاویه راست آن را مشخص کنید.</p> 
۹	<p>۳۵۶۰ گرم یعنی ----- کیلوگرم و ----- گرم. توضیح دهید که این عدد ها چگونه به دست می آیند.</p>
۱۰	<p>با پرگار دایره ای بکشید که مرکز آن نقطه ی «م» باشد و آن را به صورت تقریبی به ۶ قسمت مساوی تقسیم کنید. سپس کسر $\frac{۲}{۶}$ را نشان دهید.</p>
<p>به امید موفقیت -</p>	