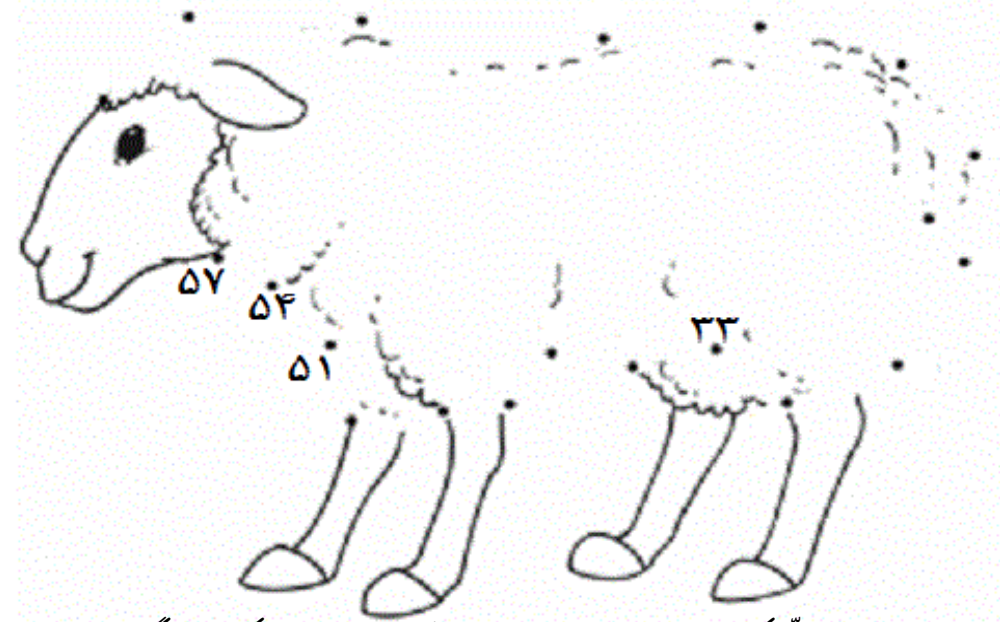



کامل کن و رنگ بزن.



در تصویر زیر چند بره کوچولو می بینی ؟ ..... آن ها را پیدا کن و رنگ بزن.



به نام خدا

دبستان پسرانه شهید بهشتی

(شاهد)

تکلیف هفته چهارم مهر ۹۲

طراح: رحمان نژاد

نام و نام خانوادگی: .....



۷, ۷ ۵ [ ۳۱ { ۷ ۳۳



دانشمند کوچک ، سلام !

هر چه می توانی در مورد دانشمندان زیر اطلاعات جمع آوری کن! در این راه می توانی از کتابخانه و بزرگ ترهای خود کمک بگیری! (موفق باشی)

زکریای رازی: .....

.....

.....

.....



ابن سینا : .....

.....

.....

.....



جابر ابن حیان : .....

.....

.....

.....



برای هر گروه از مواد غذایی چند مورد بنویس .



گوشت ها لبنیات میوه ها و سبزیجات نان و غلات

۱. در کدام وعده غذایی از هر ۴ طبقه خوراکی ها استفاده می شود؟

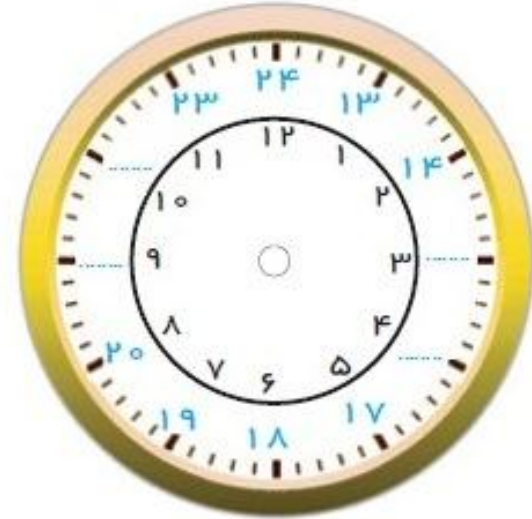
۲. در کدام طبقه ویتامین بیشتری به بدن می رسد؟

۳. استفاده از کدام طبقه انرژی بیشتری به بدن می رساند؟

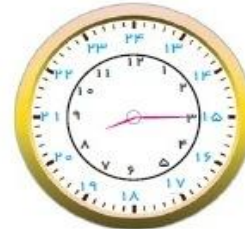
۴. کدام طبقه نقش مهمی در رشد و استحکام دندان ها و استخوان ها دارد؟

۵. کدام طبقه پروتئین مورد نیاز بدن را تامین می کند؟

در جای خالی عدد مناسب بنویس.



۱. علی ساعت ۸ صبح به محل کار خود می رود. بعد از ۳ ساعت از آنجا به یک کتابخانه می رود و ۲ ساعت در آنجا می ماند و سپس به خانه می رود. او در چه ساعتی به خانه برمی گردد؟
۲. هر ساعت را به زمان مربوطه وصل کن.



سه و نیم بعد از ظهر

بیست و ربع

بیست و سه و ربع

۳. قطاری ساعت ۵ صبح از تهران حرکت می کند و ساعت ۵ بعد از ظهر به مشهد می رسد.

الف) قطار چه ساعتی به مشهد رسیده است؟

ب) قطار چند ساعت در راه بوده است؟



۴. جدول ساعت در شبانه روز را به جدول ساعت قبل از ظهر تبدیل کنید.

۱۹	۱۶	۲۳	۱۴	۱۵	۱۷
----	----	----	----	----	----



--	--	--	--	--	--

۵. کامل کنید.

قبل از ظهر

□

۹

□



بعد از ظهر

۱۷

□

۲۲

یک بند درباره عید قربان بنویس.

نظر ولی محترم:

چند سطر با خط خوانا و زیبا از

درس محله ما و چند سطر از

درس زنگ ورزش بنویس.



A series of horizontal red lines for writing, with small decorative flowers (blue, green, purple, red) scattered across the lines.