

« والدین گرامی: خواهشمندیم فقط نظارت فرمایید و از گفتن پاسخ‌ها خودداری فرمایید »

مقدار پول را در هر قسمت، به دست آورید.



ریال

ریال

عددهای زیر را با هم مقایسه کنید و در دایره علامت مناسب (> = <) بگذارید.

۱۲ ○ ۱۸


۲۵ ○ ۳۶

۱۹ ○ ۱۷

۲۷۵ ○ ۳۴۱

۴۱۹ ○ ۴۲۸

۲۰۰ ○ ۳۰۰

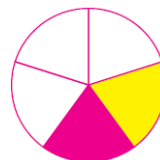



قد علی ۱۴۲ سانتی‌متر است. برادرش ۸ سانتی‌متر از او کوتاه‌تر است.

قد این دو نفر روی هم چند سانتی‌متر است؟

اکبر ۵ سکه‌ی ۱۰۰ ریالی، ۲ سکه‌ی ۱۰ ریالی و ۸ سکه‌ی ۱ ریالی دارد. او برای خریدن یک مداد ۶۰۰

ریالی به چند ریال پول نیاز دارد؟



در جاهای خالی اعداد مناسب بنویسید.

..... قسمت از قسمت، رنگ خورده است. قسمت از قسمت، رنگ نخورده است.

احمد در یک مسابقه ۱۲۶ امتیاز کسب کرد. ولی به دو سوال پاسخ اشتباه داد و ۸ امتیاز از دست داد. حالا

او چند امتیاز دارد؟



با رقم‌های ۲ و ۰ و ۱ هر چند تا عدد ۲ رقمی می‌توانید، بنویسید.

الگوهای زیر را کامل کنید.

۷, ۱۰, , , , ,

۵, ۱۱, , , , ,

حاصل جمع و تفریق‌های زیر را بدست آورید.

$$\begin{array}{r} 479 \\ -148 \\ \hline \end{array}$$


$$\begin{array}{r} 296 \\ -126 \\ \hline \end{array}$$

$$\begin{array}{r} 426 \\ +325 \\ \hline \end{array}$$

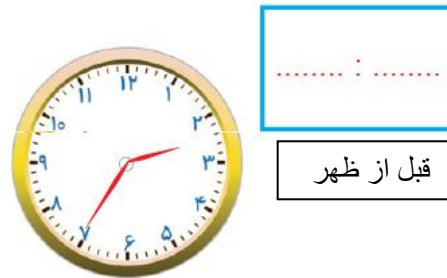
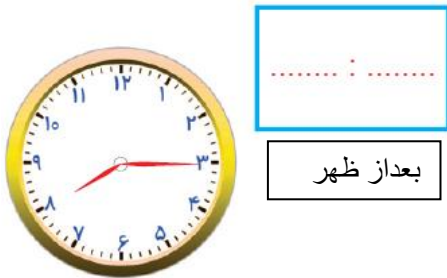
$$\begin{array}{r} 312 \\ +511 \\ \hline \end{array}$$

$$\begin{array}{r} 87 \\ -63 \\ \hline \end{array}$$

$$\begin{array}{r} 47 \\ +23 \\ \hline \end{array}$$



هر کدام از ساعت‌های زیر، چه زمانی را نشان می‌دهد؟

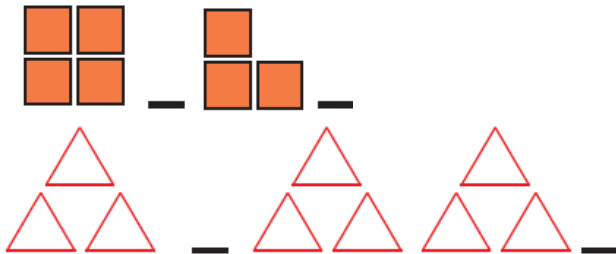


در داخل کیسه ۴ مهره قرمز و ۸ مهره آبی انداخته‌ایم. اگر از داخل کیسه بدون نگاه کردن، یک مهره

بیرون بیاوریم. شانس کدام رنگ بیش‌تر است؟ چرا؟



الگوی شکلی زیر را ادامه دهید.



۴- شکل‌های زیر را یک بار دوتا دوتا، یک بار چهارتا چهارتا دسته بندی کن.



شمارش دوتا دوتا: و و و و و

شمارش چهارتا چهارتا: و و

۵- با توجه به شکل جمع بنویسید

$$\dots + \dots + \dots + \dots = \dots$$

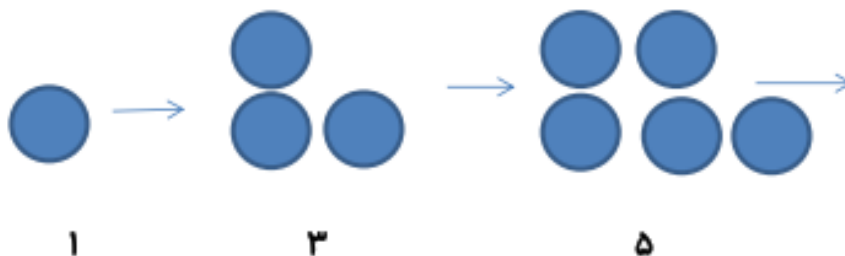
۱- الگوهای عددی زیر را ادامه دهید

$$10 \xrightarrow{+2} \square \xrightarrow{+2} \square \xrightarrow{+2} \square$$

$$63 \xrightarrow{+9} \square \xrightarrow{+9} \square \xrightarrow{+9} \square$$

$$24 \xrightarrow{+4} \square \xrightarrow{+4} \square \xrightarrow{+4} \square$$

۱- بین شکل ها و عددها یک رابطه پیدا کنید و شکل و عدد بعدی را بنویسید



۲- برای الگوی عددی زیر، الگوی شکلی (هندسی) مناسب بکشید.

۹ - ۱۸ - ۲۷

۳- بستنی فروشی هر بستنی را ۵۵۰ ریال می خرد و هر بستنی را ۶۰۰ ریال می فروشد.

- او با فروش هر بستنی چقدر سود می کند؟

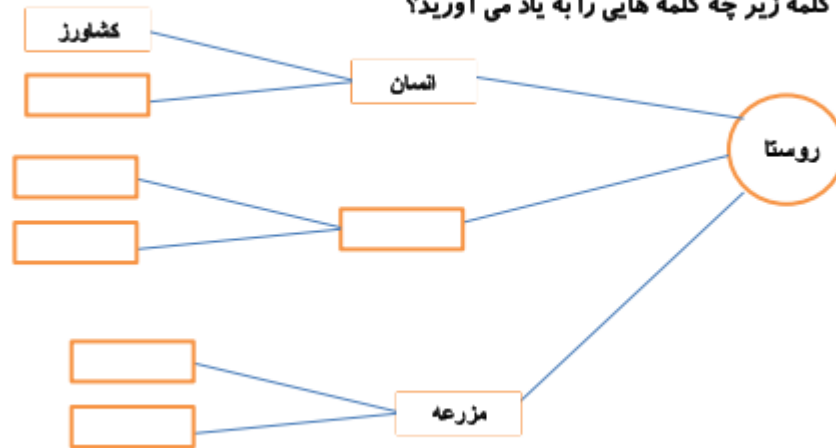
- فروش هر ۳ بستنی چقدر سود برایش دارد؟

- اگر یک بستنی آب شود، او چندتا بستنی باید بفروشد تا ضرر آن بستنی جبران شود؟

(محل کشیدن جدول نظام دار)

--	--

۱- با دیدن کلمه زیر چه کلمه هایی را به یاد می آورید؟



۲- هر مثلث را روی مستطیل مناسبش بگذارید. (مانند نمونه)



۳- وصل کنید.

بوستان

نام دیگر دکان

مغازه

شیرینی فروشی

ثبت نام

مکانی برای خرید در هر محله

نمازخانه

نام دیگر پارک

بازار

نام نویسی

قنادی

محل خواندن نماز

