
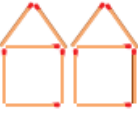



۱	جدول زیر را کامل کنید.																																																															
	<table border="1" style="width:100%; border-collapse: collapse; text-align: center;"> <tr> <td style="width:25%;"></td> <td style="width:25%;">۳۶۴۵۲۱</td> <td style="width:25%;"></td> <td style="width:25%;">۲۵۰۳۲۶۲۰</td> </tr> <tr> <td style="text-align: left;">نه میلیون صدو چهل هزار بیست و شش</td> <td></td> <td style="text-align: left;">سی و دو میلیون و چهارصدو بیست هزار</td> <td></td> </tr> <tr> <td></td> <td></td> <td></td> <td></td> </tr> </table>		۳۶۴۵۲۱		۲۵۰۳۲۶۲۰	نه میلیون صدو چهل هزار بیست و شش		سی و دو میلیون و چهارصدو بیست هزار																																																								
	۳۶۴۵۲۱		۲۵۰۳۲۶۲۰																																																													
نه میلیون صدو چهل هزار بیست و شش		سی و دو میلیون و چهارصدو بیست هزار																																																														
۲	<p>به سؤال های زیر پاسخ دهید ؟</p> <p>الف) اگر عدد ۷۴۵۰ را در ۱۰ ضرب کنیم ، عدد ۴ چه مرتبه ای پیدا می کند ؟</p> <p>ب) اگر عدد ۷۴۵۰ را در ۱۰ تقسیم کنیم ، عدد ۵ چه مرتبه ای پیدا می کند ؟</p> <p>ج) ۱۰۰ تا ۱۰۰۰۰ تایی برابر است با یک</p> <p>د) ۱۲ تا ۱۰۰ تایی و ۱۰ تا ۱۰۰۰۰ تایی می شود :</p>																																																															
۳	<p>عدد های روبرو را در جدول ارزش مکانی قرار دهید ؟</p> <table border="1" style="width:100%; border-collapse: collapse; text-align: center;"> <thead> <tr> <th colspan="3" style="background-color: #cccccc;">هزار</th> <th colspan="3" style="background-color: #cccccc;">میلیون</th> <th colspan="3" style="background-color: #cccccc;">میلیارد</th> </tr> <tr> <th style="background-color: #cccccc;">ص</th><th style="background-color: #cccccc;">د</th><th style="background-color: #cccccc;">ی</th> <th style="background-color: #cccccc;">ص</th><th style="background-color: #cccccc;">د</th><th style="background-color: #cccccc;">ی</th> <th style="background-color: #cccccc;">ص</th><th style="background-color: #cccccc;">د</th><th style="background-color: #cccccc;">ی</th> </tr> </thead> <tbody> <tr> <td></td><td></td><td></td><td></td><td></td><td></td><td></td><td></td><td></td> </tr> <tr> <td></td><td></td><td></td><td></td><td></td><td></td><td></td><td></td><td>۷۲۹۶۵۴۳۵۷۰</td> </tr> <tr> <td></td><td></td><td></td><td></td><td></td><td></td><td></td><td></td><td>۷۸۴۲۰۰۰۰</td> </tr> <tr> <td></td><td></td><td></td><td></td><td></td><td></td><td></td><td></td><td>۴۱۶۴۲۵۲۰۰۰</td> </tr> <tr> <td></td><td></td><td></td><td></td><td></td><td></td><td></td><td></td><td>۱۶۰۰۰۰۰۰۰</td> </tr> </tbody> </table>	هزار			میلیون			میلیارد			ص	د	ی	ص	د	ی	ص	د	ی																		۷۲۹۶۵۴۳۵۷۰									۷۸۴۲۰۰۰۰									۴۱۶۴۲۵۲۰۰۰									۱۶۰۰۰۰۰۰۰
هزار			میلیون			میلیارد																																																										
ص	د	ی	ص	د	ی	ص	د	ی																																																								
								۷۲۹۶۵۴۳۵۷۰																																																								
								۷۸۴۲۰۰۰۰																																																								
								۴۱۶۴۲۵۲۰۰۰																																																								
								۱۶۰۰۰۰۰۰۰																																																								
۴	<p>هزینه ی ساخت یک بیمارستان نهصد و شصت میلیون تومان است . اگر ششصد و بیست میلیون تومان آن را افراد خیر اهدا کنند به چه مقدار دیگر پول نیاز است ؟</p>																																																															
۵	<p>در عید قربان سال ۹۴ حاجیان ایرانی که در سرزمین منا حضور داشتند برای رمی جمرات رفته بودند ، متأسفانه در مسیر برگشت حدود ساعت ۳۰:۸ دچار حادثه شدند ، بعلت کوتاهی مأموران سعودی نیروهای امداد ایران بعد از ۵۰:۴۰ توانستند خودشان را به این عزیزان برسانند . حساب کنید در چه ساعتی نیروهای امداد ایران توانستند جنازه های ایرانی را پیدا کنند ؟</p>																																																															
۶	<p>جرم یک هندوانه ۶ کیلو ۴۰۰ گرم است ، جرم یک هندوانه ی دیگر ۳ کیلو ۶۰۰ گرم است ، جرم این دو هندوانه روی هم چقدر است ؟</p>																																																															

<p>۷ مادر احمد می خواهد برای وی فرم مدرسه بدوزد ، اگر برای پیراهن ۱ متر و ۸۰ سانتی متر و برای شلوار ۱ متر ۴۰ سانتی متر پارچه لازم باشد ، مادر احمد چند متر پارچه باید بخرد ؟</p>	۷
<p>۸ محمّد در ۲۵ آبان ماه ۱۳۷۸ به دنیا آمد. ۱۴ سال ۸ ماه و ۲۰ روز بعد برای او جشن تکلیف گرفتند . زمان جشن تکلیف محمّد را پیدا کنید ؟</p>	۸
<p>۹ قلب یک نوزاد به طور معمول در هر دقیقه ۱۳۰ بار می تپد . در یک سال به طور تقریبی چند بار می تپد ؟ برای حل مسأله زیر مسئله های زیر را بسازید و حل کنید :</p> <ul style="list-style-type: none"> • تعداد تپش قلب در یک ساعت : • تعداد تپش قلب در یک شبانه روز (۲۴ ساعت): • تعداد تپش قلب در یک سال (۳۶۵ روز) 	۹
<p>۱۰ الگو های زیر را ادامه دهید ؟</p> <p>۱ : ۲۰ ، ۱ : ۳۰ ، ۱ : ۴۰ □ , ,</p> <p>۲ , ۵ , ۱۰ , ۱۷ , , , ,</p> <div style="display: flex; justify-content: space-around; align-items: flex-end;"> <div style="text-align: center;">  <p>شکل (۱)</p> </div> <div style="text-align: center;">  <p>شکل (۲)</p> </div> <div style="text-align: center;">  <p>شکل (۳)</p> </div> <div style="text-align: center;"> <p>شکل ۴</p> </div> </div>	۱۰
<h2>موفق و سربلند باشید</h2>	
<p>باز حضور معلم :</p>	