

بسمه تعالی

نام و نام خانوادگی:

پایه: سوم

نام درس: ریاضی

نظر کلی آموزگار:



وزارت آموزش و پرورش جمهوری اسلامی ایران

اداره آموزش و پرورش

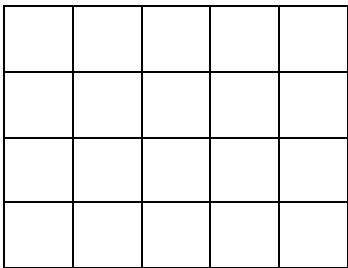
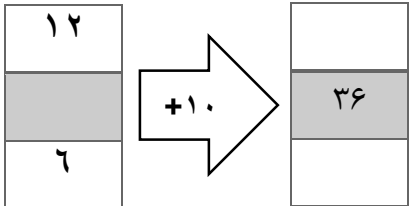
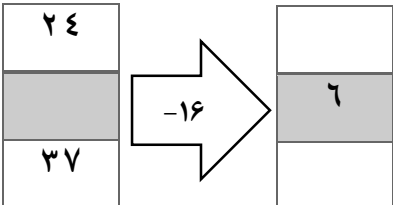
دبستان

تاریخ امتحان: ۱۳۹۵/۰/۰

ساعت امتحان: ۹:۳۰

مدت امتحان: ۴۵ دقیقه

نظر دانش آموز:

ردیف	سوالات
۱	الگوهای عددی زیر را ادامه دهید. .....-.....-.....-.....-.....-.....-۲۴-۲۷-۳۰ .....-.....-.....-.....-.....-.....-۳۵-۴۰-۴۵ .....-.....-.....-.....-.....-.....-۵۶-۵۸-۶۰ .....-.....-.....-.....-.....-.....-۶۰۰۰-۱۰۰۰۰
۲	تعداد مربع های شکل را بشمارید(به صورت چندتاچندتا)  جواب: .....
۳	جاهای خالی را کامل کنید  

حاصل جمع های زیر را بنویسید.

$$۱۰+۴+۷+۹+۶=$$

$$۶+۳+۵+۸+۱۱+۲=$$

$$۴+۶+۹+۷+۵+۱۲=$$

۴

[WWW.MOALLEMYAR.IR](http://WWW.MOALLEMYAR.IR)